

ШКОЛЬНЫЙ ЭТАП ОЛИМПИАДЫ ПО ОБЩЕСТВОЗНАНИЮ

2023-2024 УЧЕБНЫЙ ГОД. 7 класс.

Время выполнения 60 мин.

Наберётся

ИТОГ ВЫПОЛНЕНИЯ ЗАДАНИЙ

Максимальный балл – 36 баллов; фактический – 32 балл.

Подпись членов жюри

А. Керест

Задание 1. Верны ли следующие утверждения?

1. Религиоведение не является социальной научной дисциплиной, поскольку изучает религиозные течения, а не общество и человека.
2. Проблема нехватки ресурсов для удовлетворения потребностей характерна для всех периодов человеческой истории.
3. Характерным признаком политической системы Древней Руси является всеобщее избирательное право.
4. Острая нехватка продовольствия в мире относится к глобальным экологическим проблемам.
5. Любая совокупность людей с общими социальными признаками, деятельностью, отношениями и институтами называется социальной группой.

Ответ:

1	2	3	4	5
<i>нет +</i>	<i>да +</i>	<i>нет +</i>	<i>нет +</i>	<i>да +</i>

Оценочные баллы: максимальный – 5 баллов; фактический – 5

2. Установите соответствие между историческими примерами и формами правления, которым они соответствуют.

А) Решение народного собрания считалось окончательным и обжалованию не подлежало, даже трагическую ошибку исправить было невозможно. Так, например, афинское народное собрание, несмотря на протесты Сократа, осудило на смерть стратегов-победителей в битве при Аргинусских островах (год до н. э.). Потом граждане раскаялись в своём решении, но было поздно: стратегов казнили. Меньшинство должно было безусловно подчиниться большинству. Сдерживающим фактором для большинства могла служить разве что апелляция к «отеческим законам» – установлениям «отцов-основателей» Афинского демократического государства: Солон и (реже) Клисфен.







Форма правления — *республика*

Оценочные баллы: максимальный – 1 балл; фактический – 1

Б) В г. венецианские власти составили «Золотую книгу» – список имеющих политические права активных граждан. Главой государства был дож (герцог). Его выбирали пожизненно, следуя нарочито усложненной процедуре: от городских кварталов (или от Большого совета) выделялись выборщики, те образовывали вторую коллегия с привлечением дополнительных электоров, вторая – третью, та – четвёртую (все разного количественного состава), и только пятая или шестая непосредственно утверждала предложенного кандидата. Эта система должна была препятствовать политическому сговору и авантюристам, которые могли затуманить головы рядовым гражданам. Дожд обладал преимущественно представительской властью, а также высшей юрисдикцией.

Форма правления — *республика*

Оценочные баллы: максимальный – 1 балл; фактический – 1

Д		Е	
Ж		З	
И		К	

Группа 1	Группа 2	Группа 3
А, Ж, З	Б, Д, К	Г, Е, И

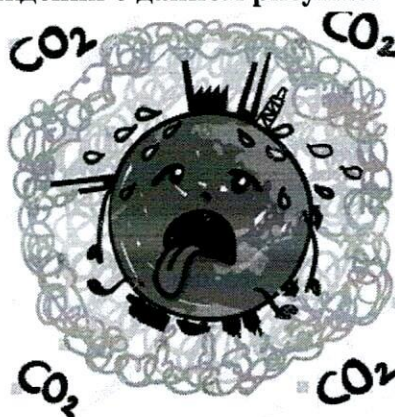
Оценочные баллы: максимальный – 9 баллов; фактический – 9

Начало фраз:

1. Среди опрошенных в 2017 г. доля тех, кто считал, что решающую роль в воспитании детей должен играть отец, была равна доле тех, кто **(выбрать из представленных выше вариантов А Б В Г Д)**;
2. За шесть лет без изменений осталась доля тех, кто **(выбрать из представленных выше вариантов А Б В Г Д)**;
3. За шесть лет ровно в два раза сократилась доля тех, кто **(выбрать из представленных выше вариантов А Б В Г Д)**;
4. Среди опрошенных в 2011 г. доля тех, кто имел прогрессивные представления о роли отца в вопросе ухода за ребенком, была меньше доли тех, кто **(выбрать из представленных выше вариантов А Б В Г Д)**.

Оценочные баллы: максимальный – 12 баллов; фактический – 12

5. Выберите все верные утверждения о данном рисунке.



1. Изображение иллюстрирует оптимистичный взгляд на перспективы человечества.
2. На картинке отражена глобальная экономическая проблема.
3. Изображение иллюстрирует происходящие на планете Земля климатические изменения.
4. В качестве ключевого фактора, приведшего к отражённым на рисунке последствиям, изображается деятельность человека
5. Изображение иллюстрирует негативное экологическое воздействие сферы услуг.

Ответ: 3, 4 2, 6

Оценочные баллы: максимальный – 2 балла; фактический – 2

Задание 6. Решите логическую задачу.

Прилетев под вечер на крышу, Карлсон обнаружил, что банка с его любимым вареньем пуста. Он решил спросить о пропаже у своих знакомых и выяснил следующее. Фрекен Бок сказала, что варенье съел не сам Карлсон. Мальш сказал, что Карлсон съел варенье сам и просто забыл. Кошка Матильда промурлыкала, что варенье съела фрекен Бок или сам Карлсон. Известно, что только двое свидетелей солгали.

6.1. Кто в таком случае мог съесть варенье?

А. Карлсон Б. Мальш В. Фрекен Бок Г. Кошка Матильда

Ответ: _____

6.2. Кто сказал правду?

А. Мальш Б. Фрекен Бок В. Кошка Матильда

Ответ: _____

Оценочные баллы: максимальный – 4 балла; фактический – 0

ШКОЛЬНЫЙ ЭТАП ОЛИМПИАДЫ ПО ОБЩЕСТВОЗНАНИЮ

2023-2024 УЧЕБНЫЙ ГОД. 7 класс.

Время выполнения 60 мин.

Тризер

ИТОГ ВЫПОЛНЕНИЯ ЗАДАНИЙ

Максимальный балл – 36 баллов; фактический – 24 балл.

Подпись членов жюри

А. Керемт**Задание 1. Верны ли следующие утверждения?**

1. Религиоведение не является социальной научной дисциплиной, поскольку изучает религиозные течения, а не общество и человека.
2. Проблема нехватки ресурсов для удовлетворения потребностей характерна для всех периодов человеческой истории.
3. Характерным признаком политической системы Древней Руси является всеобщее избирательное право.
4. Острая нехватка продовольствия в мире относится к глобальным экологическим проблемам.
5. Любая совокупность людей с общими социальными признаками, деятельностью, отношениями и институтами называется социальной группой.

Ответ:

1	2	3	4	5
Неверно +	Верно +	Неверно +	Неверно +	Верно +


Оценочные баллы: максимальный – 5 баллов; фактический – 5**2. Установите соответствие между историческими примерами и формами правления, которым они соответствуют.**

А) Решение народного собрания считалось окончательным и обжалованию не подлежало, даже трагическую ошибку исправить было невозможно. Так, например, афинское народное собрание, несмотря на протесты Сократа, осудило на смерть стратегов-победителей в битве при Аргинусских островах (год до н. э.). Потом граждане раскаялись в своём решении, но было поздно: стратегов казнили. Меньшинство должно было безусловно подчиниться большинству. Сдерживающим фактором для большинства могла служить разве что апелляция к «отеческим законам» – установлениям «отцов-основателей» Афинского демократического государства: Солона и (реже) Клисфена.

Форма правления – Демократическая**Оценочные баллы: максимальный – 1 балл; фактический – _____**

Б) В г. венецианские власти составили «Золотую книгу» – список имеющих политические права активных граждан. Главой государства был дож (герцог). Его выбирали пожизненно, следуя нарочито усложненной процедуре: от городских кварталов (или от Большого совета) выделялись выборщики, те образовывали вторую коллегию с привлечением дополнительных электоров, вторая – третью, та – четвёртую (все разного количественного состава), и только пятая или шестая непосредственно утверждала предложенного кандидата. Эта система должна была препятствовать политическому сговору и авантюристам, которые могли затуманить головы рядовым гражданам. Дожд обладал преимущественно представительской властью, а также высшей юрисдикцией.

Форма правления – Абсолютизм**Оценочные баллы: максимальный – 1 балл; фактический – _____**



Группа 1	Группа 2	Группа 3
Б, Д, В,	Г, Е, Ж, И.	А, З, К


Оценочные баллы: максимальный – 9 баллов; фактический – 6.

Начало фраз:

1. Среди опрошенных в 2017 г. доля тех, кто считал, что решающую роль в воспитании детей должен играть отец, была равна доле тех, кто **(выбрать из представленных выше вариантов А Б В Г Д)**;
2. За шесть лет без изменений осталась доля тех, кто **(выбрать из представленных выше вариантов А Б В Г Д)**;
3. За шесть лет ровно в два раза сократилась доля тех, кто **(выбрать из представленных выше вариантов А Б В Г Д)**;
4. Среди опрошенных в 2011 г. доля тех, кто имел прогрессивные представления о роли отца в вопросе ухода за ребенком, была меньше доли тех, кто **(выбрать из представленных выше вариантов А Б В Г Д)**.

Оценочные баллы: максимальный – 12 баллов; фактический – 12

5. Выберите все верные утверждения о данном рисунке.



1. Изображение иллюстрирует оптимистичный взгляд на перспективы человечества.
2. На картинке отражена глобальная экономическая проблема.
3. Изображение иллюстрирует происходящие на планете Земля климатические изменения.
4. В качестве ключевого фактора, приведшего к отражённым на рисунке последствиям, изображается деятельность человека
5. Изображение иллюстрирует негативное экологическое воздействие сферы услуг.

Ответ: 5 —

Оценочные баллы: максимальный – 2 балла; фактический – 0

Задание 6. Решите логическую задачу.

Прилетев под вечер на крышу, Карлсон обнаружил, что банка с его любимым вареньем пуста. Он решил спросить о пропаже у своих знакомых и выяснил следующее. Фрекен Бок сказала, что варенье съел не сам Карлсон. Мальш сказал, что Карлсон съел варенье сам и просто забыл. Кошка Матильда промурлыкала, что варенье съела фрекен Бок или сам Карлсон. Известно, что только двое свидетелей солгали.

6.1. Кто в таком случае мог съесть варенье?

А. Карлсон Б. Мальш В. Фрекен Бок Г. Кошка Матильда

Ответ: A —

6.2. Кто сказал правду?

А. Мальш Б. Фрекен Бок В. Кошка Матильда

Ответ: A —

Оценочные баллы: максимальный – 4 балла; фактический – 0

Призер

**ШКОЛЬНЫЙ ЭТАП ОЛИМПИАДЫ ПО ОБЩЕСТВОЗНАНИЮ
2023-2024 УЧЕБНЫЙ ГОД 8 класс.
Время выполнения 60 мин.**

ИТОГ ВЫПОЛНЕНИЯ ЗАДАНИЙ

Максимальный балл – 56 баллов; фактический - 38 балл.

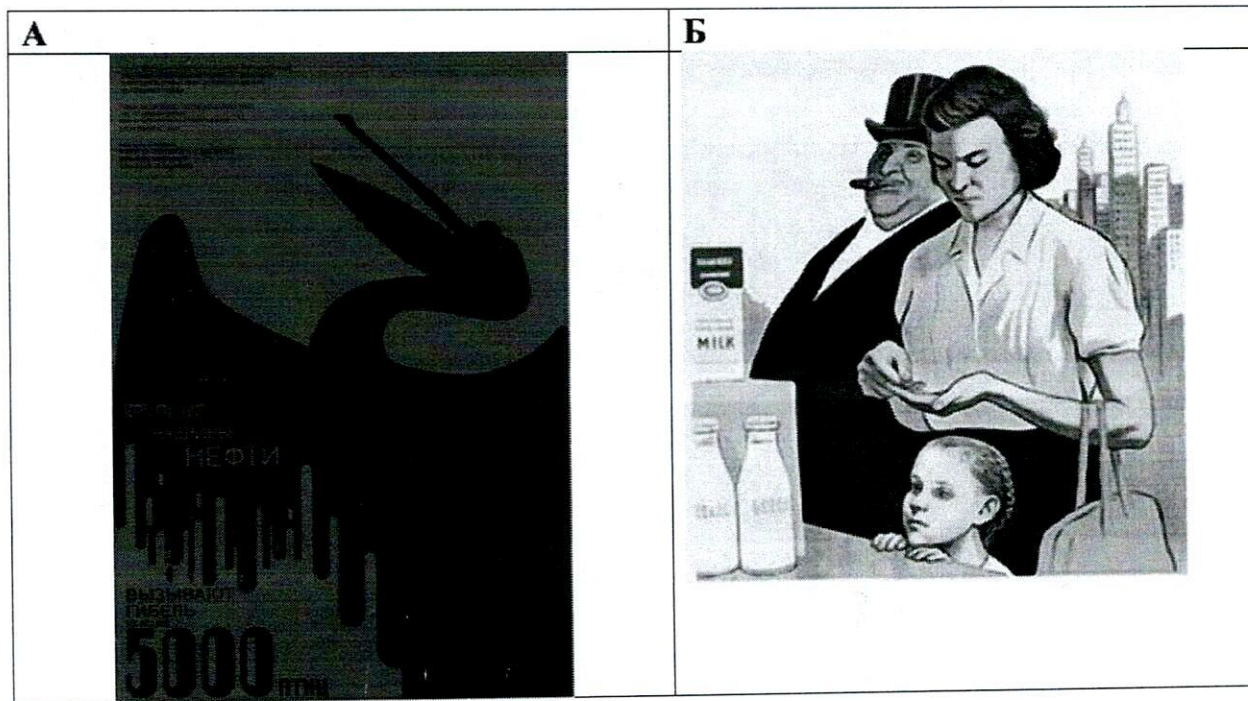
Подпись членов жюри *А. Короб*

Задание 1. Выберите верные(ое) утверждения.

1. Правосудие в России осуществляется в том числе полицией.
2. Одним из признаков монархии является значительное ограничение политических прав жителей страны.
3. Эсперанто является примером национальной религии, широко распространённой в одной из стран Латинской Америки.
4. Кодексы обладают большей юридической силой, чем подзаконные акты.
5. Государственный Эрмитаж является музеем, обладающим крупнейшим в России собранием произведений отечественной художественной культуры.


Оценочные баллы: максимальный – 2 балла; фактический – 2

Задание 2. Распределите изображения на две равные группы в зависимости от сюжета, которому они посвящены.



Задание 3. Ознакомьтесь с инфографикой и выберите все верные утверждения, которые можно сделать на основании приведённых в ней данных.





1. Около трети россиян обладают потребительским доверием.
2. Данные опросов зафиксировали осенью 2020 года снижение готовности россиян брать кредиты.
3. По каждому из представленных вопросов на основании приведённых данных можно проследить динамику общественного мнения.
4. Более половины россиян осенью 2020 года проявляли интерес к курсу национальной валюты по отношению к доллару
5. Затруднившиеся ответить не оказывают влияния на значение индекса потребительского доверия.
6. 15 % россиян хранят сбережения исключительно в иностранной валюте.
7. Данные показывают, что опрошенные ожидают инфляцию в России через три месяца – один год.
8. Около трети россиян считают, что лучше не иметь сбережений.

Ответ: 2, 4, 6, 7, 8

Оценочные баллы: максимальный – 4 балла; фактический – 4

4.2. На основании текста выберите верные утверждения о подходах к борьбе с изменением климата:

- А. Эффективная борьба с изменением климата невозможна на уровне одного государства
- Б. Парижское климатическое соглашение – скорее декларация отдельных стран об их индивидуальных намерениях по сокращению выбросов
- В. Развивающиеся страны с большей готовностью согласны брать на себя обязательства по борьбе с изменением климата
- Г. Неэффективность парижского соглашения связана с его необязательностью для выполнения
- Д. Во многом необходимость парижского соглашения вызвана отсутствием внешнего контроля за суверенными государствами
- Е. Рациональное поведение отдельных стран приводит к снижению общего уровня выбросов

Ответ: Б, Д, Е

Оценочные баллы: максимальный – 6 баллов; фактический – 3

4.3. На основании текста выберите ситуации, которые иллюстрируют проблему безбилетника:

- А. Гражданин D украл в магазине две шоколадки вместо того, чтобы за них заплатить
- Б. Рыбак С нарушает нормы по максимальному допустимому объёму вылова рыбы, установленные государством
- В. Гражданка N отказывается от уплаты налогов, вместе с тем она продолжает пользоваться государственной медициной
- Г. Гражданин Y взял кредит в банке, предоставив ложные сведения о своей заработной плате, и не смог его вернуть
- Д. Гражданин X уклоняется от службы в армии, при этом он всё ещё пользуется защищённостью границ своей страны.

Ответ: Б, Г

Оценочные баллы: максимальный – 4 балла; фактический – 0

4.4. Какому из понятий, использованных в тексте, соответствует следующее определение?

Санкции – это формальное или неформальное средство группового или общественного воздействия на человека для обеспечения конформного поведения.

Внимание! Ответы с орфографическими ошибками не засчитываются.

Оценочные баллы: максимальный – 2 балла; фактический – 2

Задание 5. Решите экономическую задачу.

Многие компании оплачивают рекламу на различных сайтах, у известных людей и у других компаний. При этом к рекламе часто прилагается специальный промокод – набор символов, который позволяет покупателю получить скидку на покупку какого-нибудь товара. Эти промокоды часто разнятся в зависимости от того, у какого рекламодателя они были получены. Зачем фирмам нужны такие промокоды?

5) Третье правило: эксперименты над животными не должны проводиться в тех сферах, где, например, независимыми исследователями ранее или в другой стране были получены предварительные результаты. Требование повышения качества связано с обязательностью любого экспериментатора предварять свой конкретный эксперимент изучением литературы, чтобы не повториться, чтобы не причинить страдания в тех сферах, где достоверные данные уже получены.

(По Е. Брызгалиной)

6.1. На основании текста выберите верные утверждения об экспериментах в современной биомедицине.

А. Из-за невозможности отказаться от экспериментов над животными в биоэтике они не регулируются.

Б. Очень небольшое количество лабораторных животных используется для обучения будущих врачей и учёных.

В. На текущем этапе развития биомедицины нельзя полностью отказаться от экспериментов над животными.

Г. Практически все эксперименты над животными проводятся с целью получения фундаментального знания.

Д. 65 % всех экспериментов над животными проводятся с целью определения влияния конкретных препаратов.

Е. Эксперименты над животными находятся в сфере морального регулирования.

Ответ:

⁺Б, ⁺В, ⁻Г

Оценочные баллы: максимальный – 6 балла; фактический – 4

6.2. Выберите ситуации, в которых нарушается одно из правил экспериментов над животными.

А. В 2018 году был проведен эксперимент на мышах, который подтвердил результаты, многократно полученные ранее.

Б. Вместо эксперимента на реальной лабораторной мышши использовалась искусственно выращенная клеточная структура.

В. Вместо компьютерного моделирования процессов в мозгу мышши был проведён эксперимент на реальном лабораторном животном.

Г. При написании работы учёный вместо проведения эксперимента сослался на результаты, полученные в другом исследовании.

Д. После получения убедительных результатов на 10 лабораторных мышах экспериментатор принял решение продолжить эксперимент ещё на 5 животных.

Ответ:

⁻Г, ⁺А, ⁺В

Оценочные баллы: максимальный – 6 балла; фактический – 3

6.3. На основании текста выберите верные суждения об отношении биоэтики к экспериментам над животными.

А. Для подтверждения ранее полученного эмпирическим путём знания допустимо проводить эксперименты, опасные для испытуемых животных.

Б. Из-за невозможности чётко установить степень страданий животных, эксперименты над ними проводить не следует.

В. В меру своих сил экспериментатор должен минимизировать переносимые животными страдания.

Г. Если какой-то процесс может быть смоделирован на компьютере, то не следует проводить потенциально опасный эксперимент над животным.

Ответ:

⁺В, ⁺Г

Оценочные баллы: максимальный – 4 балла; фактический – 4

ШКОЛЬНЫЙ ЭТАП ОЛИМПИАДЫ ПО ОБЩЕСТВОЗНАНИЮ
2023-2024 УЧЕБНЫЙ ГОД 8 класс.
Время выполнения 60 мин.

Призер

ИТОГ ВЫПОЛНЕНИЯ ЗАДАНИЙ

Максимальный балл – 56 баллов; фактический – 37 балл.

Подпись членов жюри _____

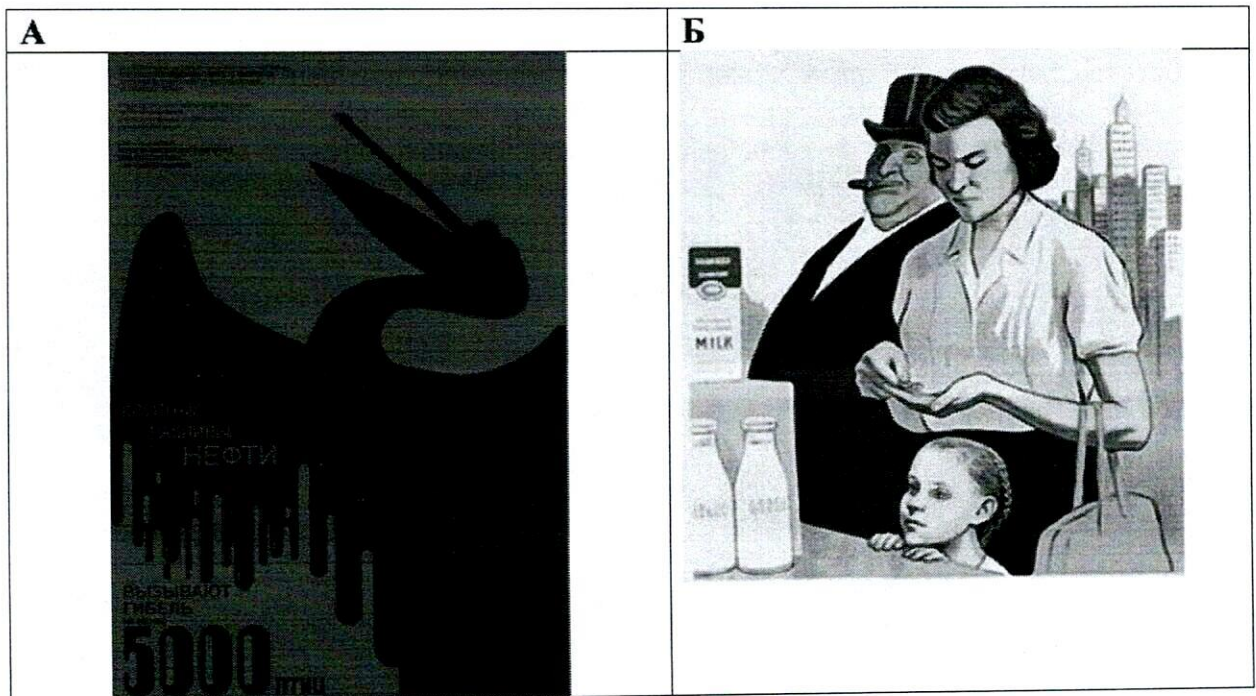
А. Керн

Задание 1. Выберите верные(ое) утверждения.

- 1. Правосудие в России осуществляется в том числе полицией.
- 2. Одним из признаков монархии является значительное ограничение политических прав жителей страны.
- 3. Эсперанто является примером национальной религии, широко распространённой в одной из стран Латинской Америки.
- 4. Кодексы обладают большей юридической силой, чем подзаконные акты.
- 5. Государственный Эрмитаж является музеем, обладающим крупнейшим в России собранием произведений отечественной художественной культуры.

Оценочные баллы: максимальный – 2 балла; фактический – 2

Задание 2. Распределите изображения на две равные группы в зависимости от сюжета, которому они посвящены.



Задание 3. Ознакомьтесь с инфографикой и выберите все верные утверждения, которые можно сделать на основании приведённых в ней данных.

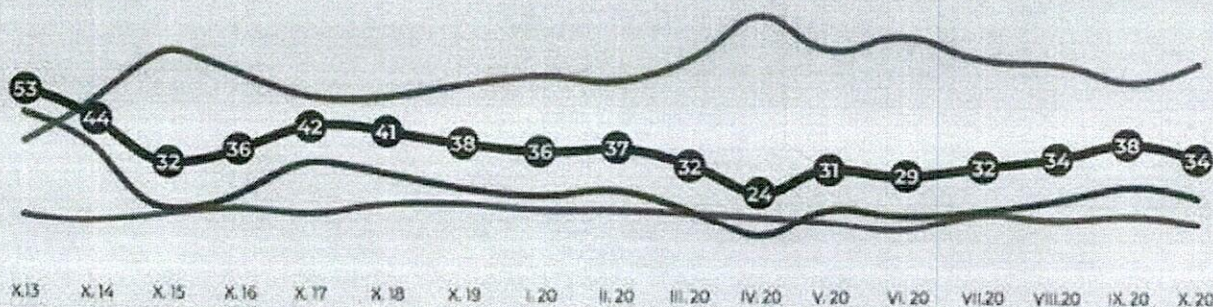
МОНИТОРИНГ:

ВКЛАДЫ, ВАЛЮТА, КРЕДИТЫ И ПОКУПКИ

Как Вы думаете, сейчас — хорошее время или плохое время, чтобы делать крупные покупки?


(закрытый вопрос, один ответ, % от всех опрошенных, индекс в пунктах)

- СКОРЕЕ ХОРОШЕЕ
- СКОРЕЕ ПЛОХОЕ
- ЗАТРУДНЯЮСЬ ОТВЕТИТЬ
- ИНДЕКС ПОТРЕБИТЕЛЬСКОГО ДОВЕРИЯ



34

ИНДЕКС ПОТРЕБИТЕЛЬСКОГО ДОВЕРИЯ показывает, насколько благоприятным россияне считают нынешнее время для совершения крупных покупок. Индекс строится на основе вопроса: «Как Вы думаете, сейчас — хорошее время, чтобы делать крупные покупки, или нет?». Ответу «Скорее хорошее» присваивается коэффициент 0,9, ответу «Скорее плохое» — 0,1, «Затрудняюсь ответить» — 0,5. Индекс измеряется в пунктах и может колебаться в пределах от 10 до 90. Чем выше значение индекса, тем более благоприятным россияне считают текущий момент для крупных приобретений.



1. Около трети россиян обладают потребительским доверием.
- ② Данные опросов зафиксировали осенью 2020 года снижение готовности россиян брать кредиты.
- ③ По каждому из представленных вопросов на основании приведённых данных можно проследить динамику общественного мнения.
4. Более половины россиян осенью 2020 года проявляли интерес к курсу национальной валюты по отношению к доллару
5. Затруднившиеся ответить не оказывают влияния на значение индекса потребительского доверия.
- ⑥ 15 % россиян хранят сбережения исключительно в иностранной валюте.
7. Данные показывают, что опрошенные ожидают инфляцию в России через три месяца – один год.
- ⑧ Около трети россиян считают, что лучше не иметь сбережений.

Ответ: 2368
+---

Оценочные баллы: максимальный – 4 балла; фактический – 2

4.2. На основании текста выберите верные утверждения о подходах к борьбе с изменением климата:

- А. Эффективная борьба с изменением климата невозможна на уровне одного государства
- Б. Парижское климатическое соглашение – скорее декларация отдельных стран об их индивидуальных намерениях по сокращению выбросов
- В. Развивающиеся страны с большей готовностью согласны брать на себя обязательства по борьбе с изменением климата
- Г. Неэффективность парижского соглашения связана с его необязательностью для выполнения
- Д. Во многом необходимость парижского соглашения вызвана отсутствием внешнего контроля за суверенными государствами
- Е. Рациональное поведение отдельных стран приводит к снижению общего уровня выбросов

Ответ: ВГА

Оценочные баллы: максимальный – 6 баллов; фактический – 0

4.3. На основании текста выберите ситуации, которые иллюстрируют проблему безбилетника:

- А. Гражданин D украл в магазине две шоколадки вместо того, чтобы за них заплатить
- Б. Рыбак С нарушает нормы по максимальному допустимому объёму вылова рыбы, установленные государством
- В. Гражданка N отказывается от уплаты налогов, вместе с тем она продолжает пользоваться государственной медициной
- Г. Гражданин Y взял кредит в банке, предоставив ложные сведения о своей заработной плате, и не смог его вернуть
- Д. Гражданин X уклоняется от службы в армии, при этом он всё ещё пользуется защищённостью границ своей страны.

Ответ: БВА

Оценочные баллы: максимальный – 4 балла; фактический – 3

4.4. Какому из понятий, использованных в тексте, соответствует следующее определение?

Санкции – это формальное или неформальное средство группового или общественного воздействия на человека для обеспечения конформного поведения.

Внимание! Ответы с орфографическими ошибками не засчитываются.

Оценочные баллы: максимальный – 2 балла; фактический – 2

Задание 5. Решите экономическую задачу.

Многие компании оплачивают рекламу на различных сайтах, у известных людей и у других компаний. При этом к рекламе часто прилагается специальный промокод – набор символов, который позволяет покупателю получить скидку на покупку какого-нибудь товара. Эти промокоды часто разнятся в зависимости от того, у какого рекламодателя они были получены. Зачем фирмам нужны такие промокоды?

5) Третье правило: эксперименты над животными не должны проводиться в тех сферах, где, например, независимыми исследователями ранее или в другой стране были получены предварительные результаты. Требование повышения качества связано с обязательностью любого экспериментатора предварять свой конкретный эксперимент изучением литературы, чтобы не повториться, чтобы не причинить страдания в тех сферах, где достоверные данные уже получены.

(По Е. Брызгалиной)

6.1. На основании текста выберите верные утверждения об экспериментах в современной биомедицине.

А. Из-за невозможности отказаться от экспериментов над животными в биоэтике они не регулируются.

Б. Очень небольшое количество лабораторных животных используется для обучения будущих врачей и учёных.

В. На текущем этапе развития биомедицины нельзя полностью отказаться от экспериментов над животными.

Г. Практически все эксперименты над животными проводятся с целью получения фундаментального знания.

Д. 65 % всех экспериментов над животными проводятся с целью определения влияния конкретных препаратов.

Е. Эксперименты над животными находятся в сфере морального регулирования.

Ответ: ВГ

Оценочные баллы: максимальный – 6 балла; фактический – 2

6.2. Выберите ситуации, в которых нарушается одно из правил экспериментов над животными.

А. В 2018 году был проведен эксперимент на мышах, который подтвердил результаты, многократно полученные ранее.

Б. Вместо эксперимента на реальной лабораторной мыши использовалась искусственно выращенная клеточная структура.

В. Вместо компьютерного моделирования процессов в мозгу мыши был проведён эксперимент на реальном лабораторном животном.

Г. При написании работы учёный вместо проведения эксперимента сослался на результаты, полученные в другом исследовании.

Д. После получения убедительных результатов на 10 лабораторных мышах экспериментатор принял решение продолжить эксперимент ещё на 5 животных.

Ответ: АВД

Оценочные баллы: максимальный – 6 балла; фактический – 6

6.3. На основании текста выберите верные суждения об отношении биоэтики к экспериментам над животными.

А. Для подтверждения ранее полученного эмпирическим путём знания допустимо проводить эксперименты, опасные для испытуемых животных.

Б. Из-за невозможности чётко установить степень страданий животных, эксперименты над ними проводить не следует.

В. В меру своих сил экспериментатор должен минимизировать переносимые животными страдания.

Г. Если какой-то процесс может быть смоделирован на компьютере, то не следует проводить потенциально опасный эксперимент над животным.

Ответ: БВГ

Оценочные баллы: максимальный – 4 балла; фактический – 4