

05 13 истории

Всероссийская олимпиада школьников по истории

Школьный этап

2024-2025 учебный год

5 класс

Время выполнения 60 минут

присел.

ИТОГ ВЫПОЛНЕНИЯ ЗАДАНИЙ

Максимальный балл – 93 балла; фактический – 42 балл.

Подпись членов жюри А. Корин

Задание 1. Выберите правильный ответ:

1. Главное отличие первобытного человека от обезьяны:

- 1) умение изготавливать орудия труда и оружие 2) длинные руки, свисающие до колен
3) собирание даров природы 4) общение друг с другом с помощью звуков

Оценочные баллы: максимальный – 2 балла; фактический – 2,5

2. Человек современного вида появился около:

- 1) 60 тысяч лет назад 2) 40 тысяч лет назад 3) 20 тысяч лет назад 4) 10 тысяч лет назад

Оценочные баллы: максимальный – 2 балла; фактический – 2,5

3. Первое животное, одомашненное человеком:

- 1) кошка 2) собака 3) лошадь 4) корова

Оценочные баллы: максимальный – 2 балла; фактический – 2,5

4. Первые земледельцы появились в:

- 1) Южной Европе 2) Юго-Восточной Азии 3) Передней Азии 4) Южной Африке

Оценочные баллы: максимальный – 2 балла; фактический – 0,5

5. На смену родовой общине приходит:

- 1) племя 2) соседская община 3) государство 4) города

Оценочные баллы: максимальный – 2 балла; фактический – 0,5

Задание 2. Ответь на вопрос одним словом.

1. Материк, где по предположениям ученых, жили древнейшие люди -

Южная Африка.

Оценочные баллы: максимальный – 2 балла; фактический – 2,5

2. Оружие охотников, которым можно поразить цель на большом расстоянии -

Дубина.

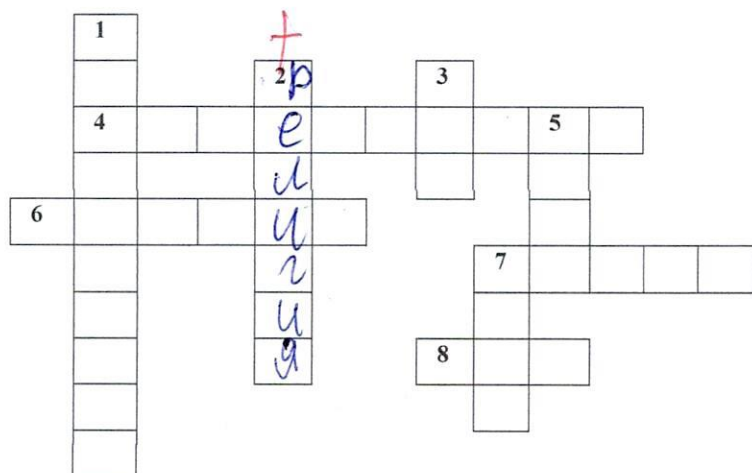
Оценочные баллы: максимальный – 2 балла; фактический – 0,5

3. Первая сила природы, которой овладели первобытные люди -

Огонь

Оценочные баллы: максимальный – 2 балла; фактический – 2,5

Задание 4. Разгадай кроссворд .



По горизонтали:

4. Наука, изучающая историю древних народов по сохранившимся вещественным памятникам. 6. Новый каменный век. 7. Объединение нескольких родов, живущих в одной местности. 8. Бесплотное сверхъестественное существо.

По вертикали: 1. Опытные и мудрые пожилые мужчины, осуществлявшие управление общинами. 2. Вера в богов, духов и поклонение им. 3. Коллектив родственников, ведущих происхождение от общего предка. 5. Статуя, которой человек поклонялся как божеству и приносил жертвы. 7. Сельскохозяйственное орудие труда с широким лемехом для вспашки земли.

Оценочные баллы: максимальный – 16 баллов; фактический – 25

Задание 6. Прочитайте описание одного важного исторического открытия и выберите, что же было сделано выдающимся французским учёным.


Два века назад в Египте нашли большой чёрный камень, покрытый надписями, сделанными на разных языках. Один французский учёный заметил, что некоторые слова обведены овальной рамкой, причём столько раз, сколько в греческой надписи встречалось имя фараона Птолемея. Учёный предположил, что так египтяне выделяли царские имена. На другом камне, также содержащем один и тот же текст на двух языках, он обнаружил в овальной рамке имя царицы Клеопатры. В словах «Птолемей» и «Клеопатра» есть общие звуки п, т, л – и знаки в двух рамочках совпадали. Так учёный доказал, что рисунки могут обозначать на письме звуки речи.

1. Была разгадана технология строительства пирамид.
2. Благодаря наблюдениям французского учёного удалось расшифровать иероглифы.
3. Таким образом была открыта древняя технология изготовления папируса.
4. Усилиями учёного был создан первый алфавит.
5. Была открыта древняя технология резки по камню.

Ответ: 2

Оценочные баллы: максимальный – 3 балла; фактический – 30

Задание 7. Выберите изображения, относящиеся к истории Древнего Египта.



ВСЕРОССИЙСКАЯ ОЛИМПИАДА ШКОЛЬНИКОВ ИСТОРИЯ.

2024–2025 уч. г.

ШКОЛЬНЫЙ ЭТАП. 8 КЛАСС

Время выполнения 90 минут

ИТОГ ВЫПОЛНЕНИЯ ЗАДАНИЙ

Максимальный балл – 98 балла; фактический - 45 балл.Подпись членов жюри А. Карет*призер.*

1. Перед вами перечень событий, произошедших в правление трёх российских правителей. Выберите имена этих правителей из предложенного списка и занесите данную информацию в таблицу. Под именами правителей поставьте буквенные обозначения событий, произошедших в их правление.

Перечень правителей

1. Иван Калита
2. Василий III
3. Игорь Святославич
4. Дмитрий Донской
5. Иван III
6. Василий II

Правитель	5 +	1 +	2 +
Событие	6 +	7 +	3 +

Перечень событий

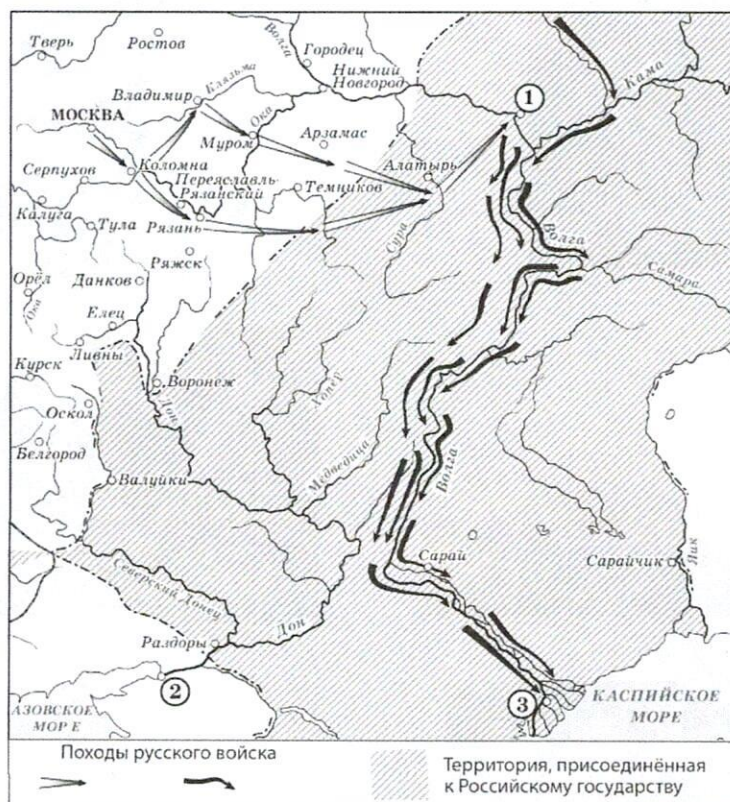
- А. Тверское восстание
- Б. Принятие в качестве герба Российского государства двуглавого орла
- В. Строительство Благовещенского собора Кремля
- Г. Строительство деревянного Кремля в Москве
- Д. Пострижение в монахини Соломонии Сабуровой
- Е. Разгром ереси жидовствующих
- Ж. Поход Мехмет Гирея на Москву
- З. Присоединение Стародубского княжества к Москве
- И. Перенос резиденции митрополита в Москву

Оценочные баллы: максимальный – 12 баллов; фактический – 68

4. Внимательно рассмотрите схему и выполните представленные задания.

Выберите все верные утверждения.

1. Цифрой на схеме обозначен город, который на протяжении нескольких лет удерживался казаками в период его нахождения под контролем Османской империи.
2. На схеме обозначен торговый путь «из варяг в греки».



3. В период событий, обозначенных на схеме, была переименована река Яик.
4. На схеме обозначен город, в котором состоялся сбор русских войск накануне Куликовской битвы.
5. Цифрой «1» на схеме обозначен Симбирск.
6. Одной из стрелок на схеме обозначен поход Ерофея Хабарова.
7. На схеме обозначена восточная граница Российского государства до воцарения Ивана IV.
8. Цифрой «3» на схеме обозначена Астрахань.
9. В результате событий, обозначенных на схеме, Каспийское море стало внутренним морем России.
10. На схеме обозначено не менее двух городов, в которых родились легендарные русские богатыри.

Ответ: 84935

Оценочные баллы: максимальный – 10 баллов; фактический – 4/6

5. Выберите из представленных картин те, на которых отражены события всемирной истории, произошедшие:

- А. на век раньше событий, отображённых на схеме;
- Б. в том же веке, что и события, отображённые на схеме;
- В. на век позже событий, отражённых на схеме.

6. Прочитайте отрывки из исторических источников. Выберите те из них, которые имеют непосредственное отношение к походам, отображённым на схеме.

А. И внезапно те царевичи поспешили в проломы со своими варварскими полками, и в мгновение ока, в то время как казанцы ещё метались в страхе, сами себя не понимая и не обрета разум, беспрепятственно вошли в город сквозь полые места и спасли город от разрушения и пожара, потушив огонь.

Пехотинцы же приставляли к стенам бесчисленные лестницы и неудержимо лезли на город. Некоторые же, словно птицы или белки, повсюду зацеплялись, как когтями, железными баграми за стены, и влезали на город, и били казанцев.

Б. А Котян, князь половецкий, с иными князьями и с остатком половцев прибежали к тому месту, что называется вал половецкий, а другие половцы многие убежали в Русскую землю. Этот Котян был тесть Мстиславу Мстиславичу Галицкому. И пришёл он с князьями половецкими в Галич с поклоном к князю Мстиславу, к зятю, и ко всем князьям русским. И дары принёс многие – коней, и верблюдов, и буйволов, и невольниц; и одарил князей русских и сказал так: «Нашу землю татары отняли сегодня, а вашу завтра возьмут. Приходите, обороните нас. Если не поможете нам, то мы нынче иссечены будем, а вы завтра».

В. А теперь поведаю вам, дети мои, о труде своём, как трудился я в разъездах и на охотах с тринадцати лет. Сначала я к Ростову пошёл сквозь землю вятичей; послал меня отец, а сам он пошёл к Курску; и снова вторично ходил я к Смоленску, со Ставком Гордятичем, который затем пошёл к Берестью с Изяславом, а меня послал к Смоленску; а из Смоленска пошёл во Владимир.

Г. Те же, придя к Казани, по Волге до Камы и на Каме на много вёрст перекрыли все пути казанцам и с Божьей помощью город на Свяге поставили и в нём церковь пречистой Богородицы в честь славного её Рождества, а также церковь великого чудотворца Сергия. И когда увидели нечестивые такое притеснение, никогда раньше над ними не чинимое, то начали многие из них приезжать к воеводам и челом бить.

Д. Пришли к царю Борису из Литвы великие послы Лев Сапега с товарищами [просить] о мирном постановлении. Царь же Борис им воздал великую честь, и ездили на переговоры многое время, и едва условились о мирном договоре, и взяли перемирие на двадцать лет. После же заключения мира [послы] были у стола государева, и государь их пожаловал своим государевым великим жалованием и отпустил их к Жижиманту королю польскому

Ответ: Г А Б

Оценочные баллы: максимальный – 6 баллов; фактический – 6/6

9.



10.


 Ответ: 1279

 Оценочные баллы: максимальный – 10 баллов; фактический – 85

8. Заполните пропуски в таблице, выполнив следующее.

А. Сопоставьте с указанными в таблице веками схемы, на которых отражены события, произошедшие в каждом из этих веков.

Б. Соотнесите схемы с фрагментами исторических источников, в которых описаны события, отражённые на схемах.

В. Соотнесите со схемами имена участников событий, описанных во фрагментах.

Г. Соотнесите со схемами иллюстрации, на которых изображены события, связанные с приведёнными схемами.

Обратите внимание на то, что среди предлагаемых вставок есть лишние элементы.

Век	Схема	Исторический источник	Участник событий	Иллюстрация
XIV	1	Б	4	IV V
XV	5	В	1	II
XVI	4	Г	6	IV
XVII	2	А	5	I

Б. И изгнаша варягы за море, и не даша имъ дани, и почаша сами в себе володети. И не бе в нихъ правды, и вѣста родъ на род, и быша усобице в них, и воевати сами на ся почаша. И ркоша: «Поищемъ сами в себе князя, иже бы володель нами и рядиль по ряду, по праву». Идоша за море к варягом, к руси. Сице бо звахуть ты варягы русь, яко се друзии зовутся сее, друзии же урмани, англыяне, инеи и готе, тако и си. Ркоша руси чюдь, словене, кривичи и вся:

«Земля наша велика и обилна, а наряда въ ней нетъ. Да поидете княжить и володеть нами».

В. Казанские города от шатости укрепляли. Да у Андрея Строганова, во время мимошедшее, как стояли под Москвою бояре Наши и воеводы князь Дмитрий Пожарский и Прокопий Ляпунов, и по городам, взяты у него Андрея многия деньги ратным людем на жалованье. Да прадед же ево Григорья, служа и радея предкам Нашим Государским, призвал с Волги атаманов и казаков – Ермака с товарищи в свои вотчины, и на помощь ему ратных многих людей наймывал, и всему войску помощь чинил, и деньги, и платье, и боевое ружье, и порох, и свинец, и всякой запас к воинскому делу из заводов своих и пожитков давал, и дворовых своих людей с ними посылал; и Сибирское государство они взяли и под Нашу высокую руку Сибирцев привели.

Г. Братья же великого князя все со многими людми, кийждо нз своя отчины, поидоша разными дорогами к Новугороду, пленующе и жгуще и люди въ пленъ ведуиде; такоже и князя великого воеводы та же творяху, кийждо на кое место посланъ. Прежепосланны их воеводы великого князя, князь Данило Дмитриевич Холмввский и Федоръ Давыдович, идуще по новъгородцким местом, идеже повелено им бяше, и распустиша воя своя на многия места жещи и пленити и в полон вести и казнити без милости за их неисправление ко своему государю великому князю. Дошедшим же воеводамъ темъ до Русы, поплениша и пожгоша место то; и пленивъ то и пожегъ, поидоша близ к Новугороду к реце к Шелоне. И якоже приидоша на место, нарицаемое Коростыня, а у езера Илмяня на брезе.

Д. Русская земля зело опечалися и бысть же тогда великое уныние и мятеж во всей земли Рустей, понеже велицей злобе Христианскому народу належащи прещения ради неверных и насилвания ратных. Видев тогда насилуемы многи, и зело оскорбися, и поболе Зоровавельски душею за люди Господни, всемогущего Бога на помощь призывая и молву бесчисленных печалей на ся прият...; собрав убо от народа многая сокровища сребра и дари люди ратныя оброки довольными, и сице собра полки многие и военачальники искусны во бранех, князя Дмитрия Михайловича Пожарскаго над всеми быти совосприподоби, сам же никогда отлучался, аки древний Гедеон всех сердца на сопротивныя укрепляя, и тако со многими вои под Москву прииде.

Участники событий.

1. Кузьма Минич Захарьев Сухорукий
2. Андрей Михайлович Курбский
3. Ермак Тимофеевич
4. Владимир Андреевич Серпуховской
5. Дмитрий Исаакович Борецкий
6. Иосиф Волоцкий

Иллюстрации.

Победа

08 01 истории

ВСЕРОССИЙСКАЯ ОЛИМПИАДА ШКОЛЬНИКОВ ИСТОРИЯ.

2024–2025 уч. г.

ШКОЛЬНЫЙ ЭТАП. 8 КЛАСС

Время выполнения 90 минут

ИТОГ ВЫПОЛНЕНИЯ ЗАДАНИЙ

Максимальный балл – 98 балла; фактический – 62 балл.

Подпись членов жюри А. Корет

1. Перед вами перечень событий, произошедших в правление трёх российских правителей. Выберите имена этих правителей из предложенного списка и занесите данную информацию в таблицу. Под именами правителей поставьте буквенные обозначения событий, произошедших в их правление.

Перечень правителей

- 1. Иван Калита
- 2. Василий III
- 3. Игорь Святославич
- 4. Дмитрий Донской
- 5. Иван III
- 6. Василий II

Правитель	1 +	2 +	5 +
Событие	A, Г, И	Ж, З	Б, В, Е

Перечень событий

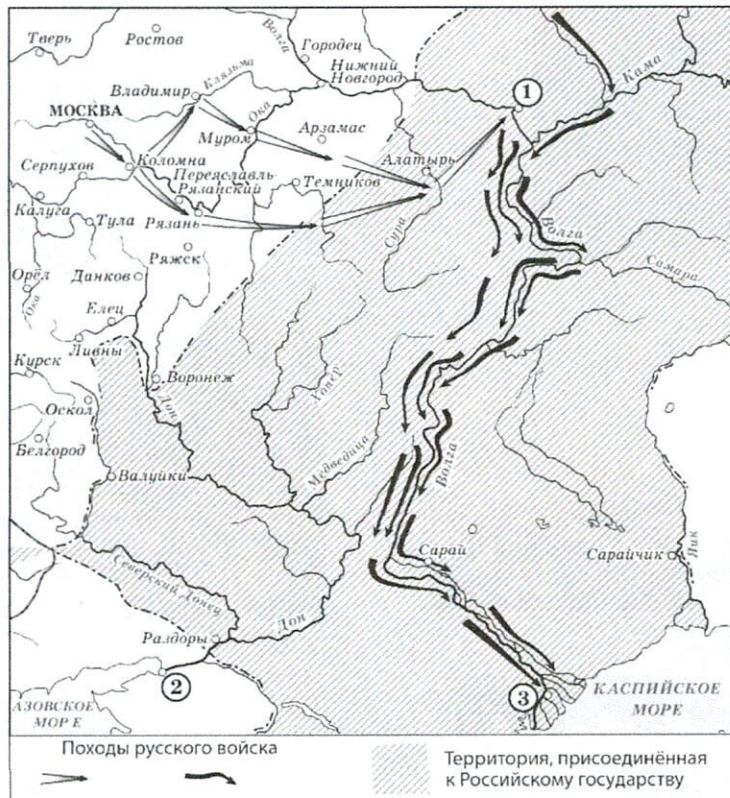
- A. Тверское восстание
- Б. Принятие в качестве герба Российского государства двуглавого орла
- В. Строительство Благовещенского собора Кремля
- Г. Строительство деревянного Кремля в Москве
- Д. Пострижение в монахини Соломонии Сабуровой
- Е. Разгром ереси жидовствующих
- Ж. Поход Мехмет Гирея на Москву
- З. Присоединение Стародубского княжества к Москве
- И. Перенос резиденции митрополита в Москву

Оценочные баллы: максимальный – 12 баллов; фактический – 125

4. Внимательно рассмотрите схему и выполните представленные задания.

Выберите все верные утверждения.

1. Цифрой на схеме обозначен город, который на протяжении нескольких лет удерживался казаками в период его нахождения под контролем Османской империи.
2. На схеме обозначен торговый путь «из варяг в греки».



3. В период событий, обозначенных на схеме, была переименована река Яик.
4. На схеме обозначен город, в котором состоялся сбор русских войск накануне Куликовской битвы.
5. Цифрой «1» на схеме обозначен Симбирск.
6. Одной из стрелок на схеме обозначен поход Ерофея Хабарова.
7. На схеме обозначена восточная граница Российского государства до воцарения Ивана IV.
8. Цифрой «3» на схеме обозначена Астрахань.
9. В результате событий, обозначенных на схеме, Каспийское море стало внутренним морем России.
10. На схеме обозначено не менее двух городов, в которых родились легендарные русские богатыри.

Ответ: 8, 1, 5, 7, 9

Оценочные баллы: максимальный – 10 баллов; фактический – 6,5

5. Выберите из представленных картин те, на которых отражены события всемирной истории, произошедшие:

- А. на век раньше событий, отображённых на схеме;
- Б. в том же веке, что и события, отображённые на схеме;
- В. на век позже событий, отражённых на схеме.

6. Прочитайте отрывки из исторических источников. Выберите те из них, которые имеют непосредственное отношение к походам, отображённым на схеме.

А. И внезапно те царевичи поспешили в проломы со своими варварскими полками, и в мгновение ока, в то время как казанцы ещё метались в страхе, сами себя не понимая и не обрета разум, беспрепятственно вошли в город сквозь полые места и спасли город от разрушения и пожара, потушив огонь.

Пехотинцы же приставляли к стенам бесчисленные лестницы и неудержимо лезли на город. Некоторые же, словно птицы или белки, повсюду зацеплялись, как когтями, железными баграми за стены, и влезали на город, и били казанцев.

Б. А Котян, князь половецкий, с иными князьями и с остатком половцев прибежали к тому месту, что называется вал половецкий, а другие половцы многие убежали в Русскую землю. Этот Котян был тесть Мстиславу Мстиславичу Галицкому. И пришёл он с князьями половецкими в Галич с поклоном к князю Мстиславу, к зятю, и ко всем князьям русским. И дары принёс многие – коней, и верблюдов, и буйволов, и невольниц; и одарил князей русских и сказал так: «Нашу землю татары отняли сегодня, а вашу завтра возьмут. Приходите, обороните нас. Если не поможете нам, то мы нынче иссечены будем, а вы завтра».

В. А теперь поведаю вам, дети мои, о труде своём, как трудился я в разъездах и на охотах с тринадцати лет. Сначала я к Ростову пошёл сквозь землю вятичей; послал меня отец, а сам он пошёл к Курску; и снова вторично ходил я к Смоленску, со Ставком Гордятичем, который затем пошёл к Берестью с Изяславом, а меня послал к Смоленску; а из Смоленска пошёл во Владимир.

Г. Те же, придя к Казани, по Волге до Камы и на Каме на много вёрст перекрыли все пути казанцам и с Божьей помощью город на Свяге поставили и в нём церковь пречистой Богородицы в честь славного её Рождества, а также церковь великого чудотворца Сергия. И когда увидели нечестивые такое притеснение, никогда раньше над ними не чинимое, то начали многие из них приезжать к воеводам и челом бить.

Д. Пришли к царю Борису из Литвы великие послы Лев Сапега с товарищами [просить] о мирном постановлении. Царь же Борис им воздал великую честь, и ездили на переговоры многое время, и едва условились о мирном договоре, и взяли перемирие на двадцать лет. После же заключения мира [послы] были у стола государева, и государь их пожаловал своим государевым великим жалованием и отпустил их к Жижиманту королю польскому

Ответ: А, Г

Оценочные баллы: максимальный – 6 баллов; фактический – 66

9.



10.



Ответ: _____

⁺1 ⁺2 ⁺3 ⁺7 ⁺9
 , , , , ,

Оценочные баллы: максимальный – 10 баллов; фактический – _____

105

8. Заполните пропуски в таблице, выполнив следующее.

А. Сопоставьте с указанными в таблице веками схемы, на которых отражены события, произошедшие в каждом из этих веков.

Б. Соотнесите схемы с фрагментами исторических источников, в которых описаны события, отражённые на схемах.

В. Соотнесите со схемами имена участников событий, описанных во фрагментах.

Г. Соотнесите со схемами иллюстрации, на которых изображены события, связанные с приведёнными схемами.

Обратите внимание на то, что среди предлагаемых вставок есть лишние элементы.

Век	Схема	Исторический источник	Участник событий	Иллюстрация
XIV				
XV				
XVI				
XVII				

Б. И изгнаша варягы за море, и не даша имъ дани, и почаша сами в себе володети. И не бе в нихъ правды, и вѣста родъ на род, и быша усобице в них, и воевати сами на ся почаша. И ркоша: «Поищемъ сами в себе князя, иже бы володелъ нами и рядиль по ряду, по праву». Идоша за море к варягом, к руси. Сице бо звахуть ты варягы русь, яко се друзии зовутся свее, друзии же урмани, аныгяне, инеи и готе, тако и си. Ркоша руси чюдь, словене, кривичи и вся:

«Земля наша велика и обилна, а наряда въ ней неть. Да поидете княжить и володеть нами».

В. Казанские города от шатости укрепляли. Да у Андрея Строганова, во время мимошедшее, как стояли под Москвою бояре Наши и воеводы князь Дмитрий Пожарский и Прокопий Ляпунов, и по городам, взяты у него Андрея многия деньги ратным людем на жалованье. Да прадед же ево Григорья, служа и радея предкам Нашим Государским, призвал с Волги атаманов и казаков – Ермака с товарищи в свои вотчины, и на помощь ему ратных многих людей наймывал, и всему войску помощь чинил, и деньги, и платье, и боевое ружье, и порох, и свинец, и всякой запас к воинскому делу из заводов своих и пожитков давал, и дворовых своих людей с ними посылал; и Сибирское государство они взяли и под Нашу высокую руку Сибирцев привели.

Г. Братья же великого князя все со многими людми, кийждо нз своя отчины, поидоша разными дорогами к Новугороду, пленующе и жгуще и люди въ пленъ ведуиде; такоже и князя великого воеводы та же творяху, кийждо на кое место посланъ. Прежепосланны их воеводы великого князя, князь Данило Дмитриевич Холмъвский и Феодоръ Давыдович, идуще по новъгородцким местом, идеже повелено им бяше, и распустиша воя своя на многия места жеци и пленити и в полон вести и казннти без милости за их неисправление ко своему государю великому князю. Дошедшим же воеводамъ темъ до Русы, поплениша и пожгоша место то; и пленивъ то и пожегъ, поидоша близ к Новугороду к реце к Шелоне. И якоже приидоша на место, нарицаемое Коростыня, а у озера Илмяня на брезе.

Д. Русская земля зело опечалися и бысть же тогда великое уныние и мятеж во всей земли Рустей, понеже велицей злобе Христианскому народу належащи прещения ради неверных и насилвания ратных. Видев тогда насилуемы многи, и зело оскорбися, и поболе Зоровавельски душею за люди Господни, всемогущего Бога на помощь призывая и молву бесчисленных печалей на ся прият...; собрав убо от народа многая сокровища сребра и дари люди ратныя оброки довольными, и сице собра полки многие и военачальники искусны во бранех, князя Дмитрия Михайловича Пожарскаго над всеми быти совосприподоби, сам же никогда отлучался, аки древний Гедеон всех сердца на сопротивныя укрепляя, и тако со многими вои под Москву прииде.

Участники событий.

1. Кузьма Минич Захарьев Сухорукий
2. Андрей Михайлович Курбский
3. Ермак Тимофеевич
4. Владимир Андреевич Серпуховской
5. Дмитрий Исаакович Борецкий
6. Иосиф Волоцкий

Иллюстрации.

Корсаков


ВСЕРОССИЙСКАЯ ОЛИМПИАДА ШКОЛЬНИКОВ
ИСТОРИЯ. 2024–2025 уч. г.
ШКОЛЬНЫЙ ЭТАП.
9 КЛАСС
Время выполнения 120 минут

ИТОГ ВЫПОЛНЕНИЯ ЗАДАНИЙ

Максимальный балл – 100 баллов; фактический – 63 балл.

Подпись членов жюри *Жу*

1. Рассмотрите представленные изображения, определите принцип формирования ряда и выберите пропущенный в ряду портрет.

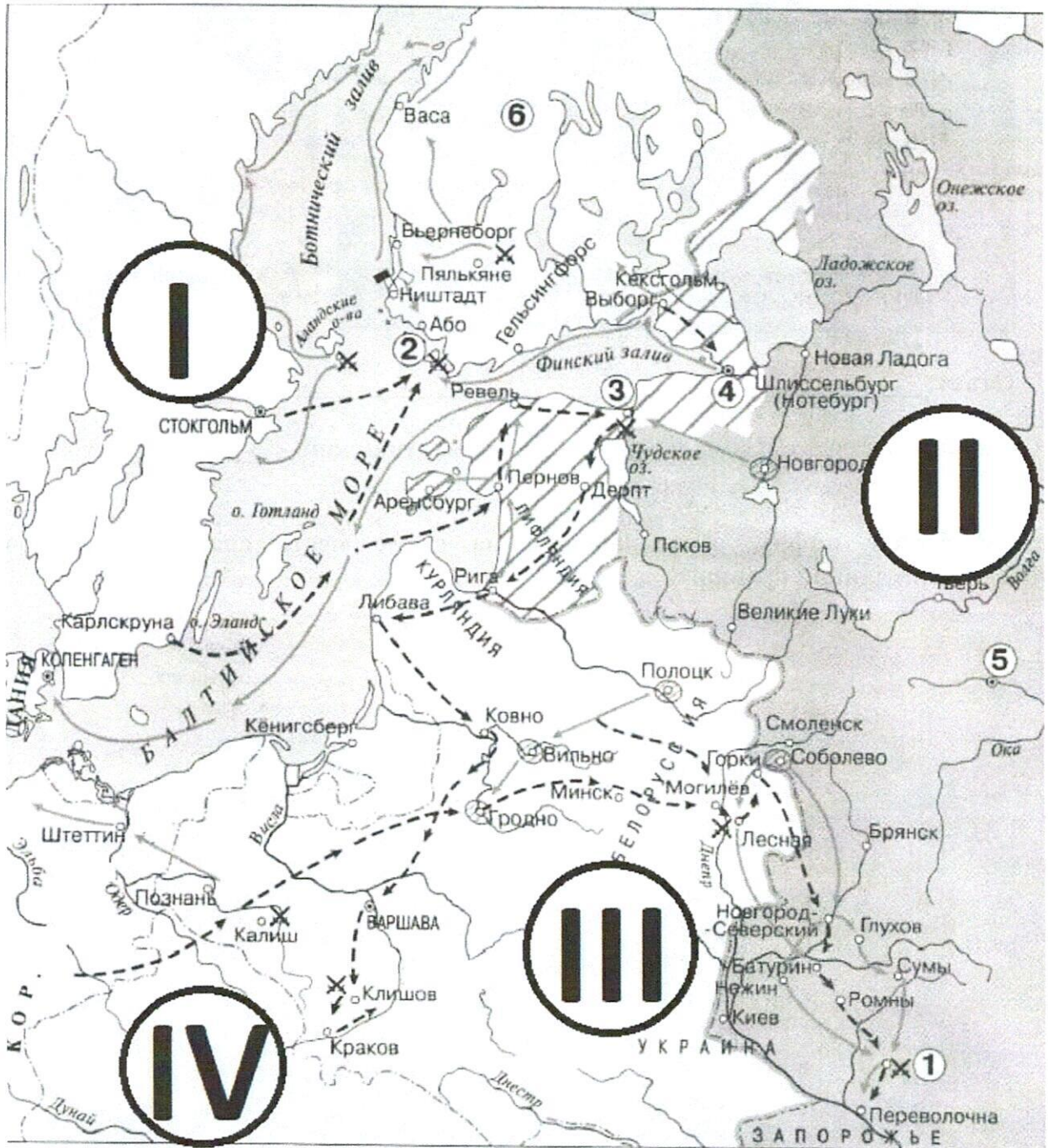


6) Битва при Прейсиш-Эйлау

Ответ: 1, 2, 4

Оценочные баллы: максимальный – 6 баллов; фактический – 4

4-7. Рассмотрите схему и выполните задания.



45 6. Соотнесите названия государств с римскими цифрами, которыми обозначены территории.

- I, II, III, IV
 Австрийские владения
 Дания
 Российская империя
 Османская империя
 Речь Посполитая
 Швеция
 Крымское ханство

Ответ:

I	II	III	IV
Швеция	Российская империя	Крымское ханство	Речь Посполитая


Оценочные баллы: максимальный – 8 баллов; фактический – 4

85 7. Выберите верные утверждения.

1. На схеме подписан город, являющийся столицей государства – противника России в войне, события которой отражены на схеме.
2. На схеме отмечен город, основанный Ярославом Мудрым в XI в.
3. Для одного из участников событий, обозначенных на схеме, был изготовлен орден Иуды.
4. Одной из битв, произошедшей в ходе войны, события которой отражены на схеме, посвятил свою поэму М. Ю. Лермонтов.
5. Одним из участников событий, отражённых на схеме, был А. В. Суворов.
6. Цифрой 3 обозначена новая столица России, основанная в период событий, отражённых на схеме.
7. На схеме обозначен город, в котором впервые был построен военно- морской флот России.
8. Менее чем за 5 лет до начала событий, отражённых на схеме, монарх России впервые отправился в путешествие по Центральной и Западной Европе.
9. Территория, обозначенная цифрой 6, вошла в состав Российской империи в том же веке, в котором произошли события, изображённые на схеме.
10. На схеме подписано государство, за правителя которого вышла замуж племянница монарха, правившего в России в период событий, отражённых на схеме.

Ответ: 1, 2, 5, 8, 10

Оценочные баллы: максимальный – 10 баллов; фактический – 8


4	
5	
6	

Ответ:

XVI–XVII вв.,		XVIII в.		1-я половина XIX в.	
6	5	1	2	3	4

Оценочные баллы: максимальный – 12 баллов; фактический – 25

5



ОТСТОИМ МОСКВУ!


7



ВРАНГЕЛЬ ЕЩЕ ЖИВ

ДОБЕЙ ЕГО БЕЗ ПОЩАДЫ

6



СЛАВА ГЕРОЯМ ЛЕНИНГРАДА!

Государственный институт
искусств
Ленин 1941 Ленинград

8



ЗАЕМЪ СВОБОДЫ

ВОЙНА до ПОБЕДЫ

Б) Объявляем всем нашим верноподданным. Закон божий, в десятословии нам преподанный, научает нас седьмой день посвящать ему; почему в день настоящий, торжеством веры христианской прославленный, и в которой мы удостоились воспринять священное миропомазание и царское на прародительском престоле нашем венчание, почитаем долгом нашим пред творцем и всех благ подателем подтвердить во всей империи нашей о точном и неперменном сего закона исполнении, повелевая всем и каждому наблюдать, дабы никто и ни под каким видом не дерзал в воскресные дни принуждать крестьян к работам, тем более что для сельских издольев остающиеся в неделе шесть дней, по равному числу оных вообще разделяемые, как для крестьян собственно, так и для работ их в пользу помещиков следующих, при добром расположении достаточны будут на удовлетворение всяким хозяйственным надобностям.

В) С тех пор, как я была замужем, я только и делала, что читала; первая книга, которую я прочла после замужества, был роман под заглавием «Tiran le blanc», и целый год я читала одни романы; но, когда они стали мне надоедать, я случайно нашла на письма г-жи де Севинье [lxviii]: это чтение очень меня заинтересовало. Когда я их проглотила, мне попались под руку произведения Вольтера; после этого чтения я искала книг с большим разбором. Мы вернулись в Петергоф, и после двух или трёх поездок из Петергофа в Ораниенбаум и обратно, где время проводили всё так же однообразно, мы возвратились в Петербург, в Летний дворец. К концу осени императрица перешла в Зимний дворец, где заняла покои, в которых мы помещались прошлую зиму, а нас поместили в те, где великий князь жил до женитьбы. Эти покои нам очень понравились, и, действительно, они были очень удобны; это были комнаты императрицы Анны.

Г) Всепресветлейшая державнейшая Великая Государыня Императрица Елисавет Петровна, Самодержица Всероссийская, Государыня Всемиловитивейшая.

Бьёт челом генерал майор и ревельской обер комендант Аврам Петов сын Ганибал, а о чём моё прошение, тому следуют пункты. Сын мой родной Иван Ганибал написан в службу Вашего Императорского Величества в прошлом 1743 году в ревельской гарнизон, где ныне сержантом обретается, и во время той ево всеподданнической службы по сей 748 год на моём собственном коште немецкой и французской языки обучил. От роду ему 11 лет. А ныне я, нижеименованный, желаю, чтоб помянутой сын мой по таким ево летам молодым для наисовершенного обучения разных наук определён былв шляхетной кадецкой корпус.

Д) К славному городу Москве съехались все князья русские и говорили таково слово: «У Дона стоят татары поганые, Мамай-царь у реки Мечи, между Чуровым и Михайловым, хотят реку перейти и с жизнью своей расстаться нам во славу».

И сказал князь великий Дмитрий Иванович: «Брат, князь Владимир Андреевич, пойдём туда, прославим жизнь свою, удивим землю, чтобы старые рассказывали, а молодые помнили! Испытаем храбрецов своих и реку Дон кровью наполним за землю Русскую и за веру христианскую!»

И сказал всем князь великий Дмитрий Иванович: «Братья и князья русские, гнездо мы великого князя Владимира Киевского! Не рождены мы на обиду ни соколу, ни ястребу, ни кречету, ни чёрному ворону, ни поганому этому Мамаю!»

Б) «Непосредственным результатом Батыева погрома было ослабление великокняжеской власти. Административный аппарат русских княжеств был серьёзно расстроен, великокняжеское войско ослаблено. Великие князья были уже не в силах обуздать своих мятежных «вассалов». Политическая раздробленность усилилась». (В.В. Каргалов)

В) Свою внешнюю политику Иван III осуществлял в тот период, когда Литва и татары уже не могли противостоять ей, а Швеция и Османская империя ещё не могли сделать этого». (А.В. Шефов)

Г) «Реформы Петра Великого не результат предварительного, строго обдуманного плана – петровские реформы выросли из самой жизни постепенно, чаще всего из неотложных потребностей данной минуты». (Е.Ф. Шмурло)

Д) «Напрасно считают Павла I каким-то случайным эпизодом нашей истории, печальным капризом недоброжелательной к нам судьбы, не имеющим внутренней связи с предшествующим временем и ничего не давшим дальнейшему». (В.О. Ключевский)

1. Истоки петровских реформ.
2. Влияние монгольского нашествия на политическое развитие русских княжеств.
3. Оценка правления Павла I и его места в российской истории.
4. Характеристика внешней политики Ивана III в контексте международной ситуации XIV–XVI вв.
5. Причины принятия христианства князем Владимиром.
6. Сопоставление правления Павла I и правления Екатерины II.
7. Историческое значение золотоордынского ига.
8. Значение правления Ивана III в процессе становления Московского княжества.
9. Роль реформ Петра Великого для дальнейшего развития государственности.
10. Значение крещения Ольги в контексте дальнейшей христианизации Руси.

Ответ:

А	Б	В	Г	Д
10	4	4	1	3

Оценочные баллы: максимальный – 10 баллов; фактический – 28

Победитель

ВСЕРОССИЙСКАЯ ОЛИМПИАДА ШКОЛЬНИКОВ
ИСТОРИЯ. 2024–2025 уч. г.
ШКОЛЬНЫЙ ЭТАП.
9 КЛАСС
Время выполнения 120 минут


ИТОГ ВЫПОЛНЕНИЯ ЗАДАНИЙ

Максимальный балл – 100 баллов; фактический - 74 балл.

Подпись членов жюри Гого

35

1. Рассмотрите представленные изображения, определите принцип формирования ряда и выберите пропущенный в ряду портрет.

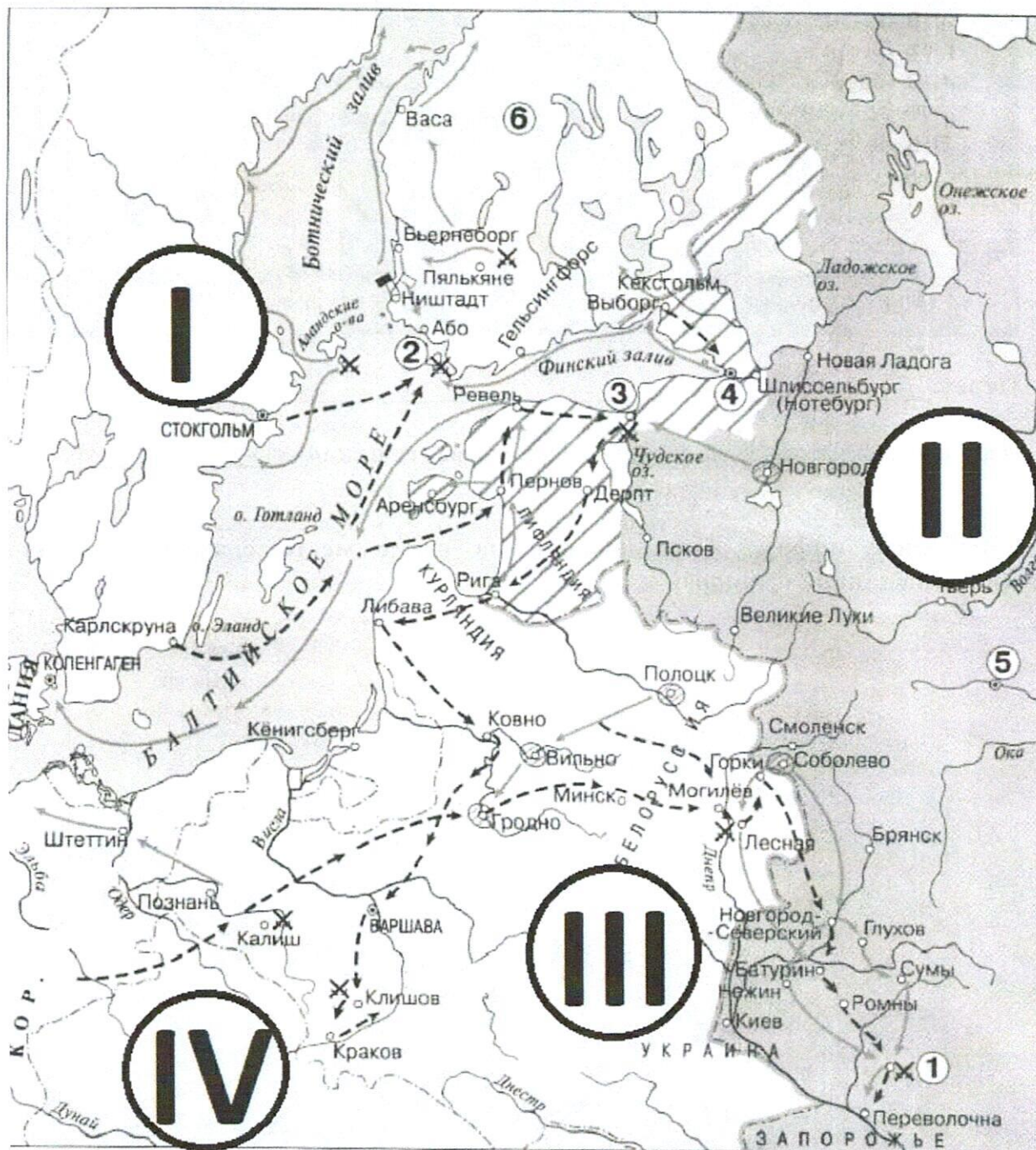


6) Битва при Прейсиш-Эйлау

Ответ: 2

Оценочные баллы: максимальный – 6 баллов; фактический – 0

4-7. Рассмотрите схему и выполните задания.



45
6. Соотнесите названия государств с римскими цифрами, которыми обозначены территории.

I, II, III, IV

Австрийские владения

Дания

Российская империя

Османская империя

Речь Посполитая

~~Швеция~~

Крымское ханство

Ответ:

I	II	III	IV
Швеция +	Российская империя +	Османская империя -	Речь Посполитая -




Оценочные баллы: максимальный – 8 баллов; фактический – 4

65
7. Выберите верные утверждения.

1. На схеме подписан город, являющийся столицей государства – противника России в войне, события которой отражены на схеме.
2. На схеме отмечен город, основанный Ярославом Мудрым в XI в.
3. Для одного из участников событий, обозначенных на схеме, был изготовлен орден Иуды.
4. Одной из битв, произошедшей в ходе войны, события которой отражены на схеме, посвятил свою поэму М. Ю. Лермонтов.
5. Одним из участников событий, отражённых на схеме, был А. В. Суворов.
6. Цифрой 3 обозначена новая столица России, основанная в период событий, отражённых на схеме.
7. На схеме обозначен город, в котором впервые был построен военно- морской флот России.
8. Менее чем за 5 лет до начала событий, отражённых на схеме, монарх России впервые отправился в путешествие по Центральной и Западной Европе.
9. Территория, обозначенная цифрой 6, вошла в состав Российской империи в том же веке, в котором произошли события, изображённые на схеме.
10. На схеме подписано государство, за правителя которого вышла замуж племянница монарха, правившего в России в период событий, отражённых на схеме.

Ответ: 1, 5, 8, 9, 10

Оценочные баллы: максимальный – 10 баллов; фактический – 6

4	
5	
6	

Ответ:

XVI–XVII вв.,		XVIII в.		1-я половина XIX в.	
5	6	4	1	3	2

Оценочные баллы: максимальный – 12 баллов; фактический – 126

5




ОТСТОИМ МОСКВУ!

7



ДОБЕЙ ЕГО БЕЗ ПОЩАДЫ

6



СЛАВА ГЕРОЯМ ЛЕНИНГРАДА!

Государственное издательство
ИСКУССТВ
Москва 1945 Ленинград

8



ЗАЕМЪ СВОБОДЫ

**ВОЙНА
ДО
ПОБЕДЫ**

Б) Объявляем всем нашим верноподданным. Закон божий, в десятословии нам преподанный, научает нас седьмый день посвящать ему; почему в день настоящий, торжеством веры христианской прославленный, и в которой мы удостоилися воспринять священное миропомазание и царское на прародительском престоле нашем венчание, почитаем долгом нашим пред творцем и всех благ подателем подтвердить во всей империи нашей о точном и неперменном сего закона исполнении, повелевая всем и каждому наблюдать, дабы никто и ни под каким видом не дерзал в воскресные дни принуждать крестьян к работам, тем более что для сельских издольев остающиеся в неделе шесть дней, по равному числу оных вообще разделяемые, как для крестьян собственно, так и для работ их в пользу помещиков следующих, при добром расположении достаточны будут на удовлетворение всяким хозяйственным надобностям.

В) С тех пор, как я была замужем, я только и делала, что читала; первая книга, которую я прочла после замужества, был роман под заглавием «Tiran le blanc», и целый год я читала одни романы; но, когда они стали мне надоедать, я случайно нашла на письма г-жи де Севинье [Lxviii]: это чтение очень меня заинтересовало. Когда я их проглотила, мне попались под руку произведения Вольтера; после этого чтения я искала книг с большим разбором. Мы вернулись в Петергоф, и после двух или трёх поездок из Петергофа в Ораниенбаум и обратно, где время проводили всё так же однообразно, мы возвратились в Петербург, в Летний дворец. К концу осени императрица перешла в Зимний дворец, где заняла покои, в которых мы помещались прошлую зиму, а нас поместили в те, где великий князь жил до женитьбы. Эти покои нам очень понравились, и, действительно, они были очень удобны; это были комнаты императрицы Анны.

Г) Всепресветлейшая державнейшая Великая Государыня Императрица Елисавет Петровна, Самодержица Всероссийская, Государыня Всемилостивейшая.

Бьёт челом генерал майор и ревельской обер комендант Аврам Петов сын Ганибал, а о чём моё прошение, тому следуют пункты. Сын мой родной Иван Ганибал написан в службу Вашего Императорского Величества в прошлом 1743 году в ревельской гарнизон, где ныне сержантом обретается, и во время той ево всеподданнической службы по сей 748 год на моём собственном коште немецкой и французской языки обучил. От роду ему 11 лет. А ныне я, нижеименованный, желаю, чтоб помянутой сын мой по таким ево летам молодым для наисовершеннаго обучения разных наук определён былв шляхетной кадецкой корпус.

Д) К славному городу Москве съехались все князья русские и говорили таково слово: «У Дона стоят татары поганые, Мамай-царь у реки Мечи, между Чуровым и Михайловым, хотят реку перейти и с жизнью своей расстаться нам во славу».

И сказал князь великий Дмитрий Иванович: «Брат, князь Владимир Андреевич, пойдём туда, прославим жизнь свою, удивим землю, чтобы старые рассказывали, а молодые помнили! Испытаем храбрецов своих и реку Дон кровью наполним за землю Русскую и за веру христианскую!»

И сказал всем князь великий Дмитрий Иванович: «Братья и князья русские, гнездо мы великого князя Владимира Киевского! Не рождены мы на обиду ни соколу, ни ястребу, ни кречету, ни чёрному ворону, ни поганому этому Мамаю!»

Б) «Непосредственным результатом Батыева погрома было ослабление великокняжеской власти. Административный аппарат русских княжеств был серьёзно расстроен, великокняжеское войско ослаблено. Великие князья были уже не в силах обуздать своих мятежных «вассалов». Политическая раздробленность усилилась». (В.В. Каргалов)

В) Свою внешнюю политику Иван III осуществлял в тот период, когда Литва и татары уже не могли противостоять ей, а Швеция и Османская империя ещё не могли сделать этого». (А.В. Шефов)

Г) «Реформы Петра Великого не результат предварительного, строго обдуманного плана – петровские реформы выросли из самой жизни постепенно, чаще всего из неотложных потребностей данной минуты». (Е.Ф. Шмурло)

Д) «Напрасно считают Павла I каким-то случайным эпизодом нашей истории, печальным капризом недоброжелательной к нам судьбы, не имеющим внутренней связи с предшествующим временем и ничего не давшим дальнейшему». (В.О. Ключевский)

1. Истоки петровских реформ. –
2. Влияние монгольского нашествия на политическое развитие русских княжеств.
3. Оценка правления Павла I и его места в российской истории.
4. Характеристика внешней политики Ивана III в контексте международной – ситуации XIV–XVI вв.
5. Причины принятия христианства князем Владимиром. –
6. Сопоставление правления Павла I и правления Екатерины II.
7. Историческое значение золотоордынского ига.
8. Значение правления Ивана III в процессе становления Московского княжества.
9. Роль реформ Петра Великого для дальнейшего развития государственности. –
10. Значение крещения Ольги в контексте дальнейшей христианизации Руси.

Ответ:

А	Б	В	Г	Д
10	2	4	1	3

Оценочные баллы: максимальный – 10 баллов; фактический – 108

**ВСЕРОССИЙСКАЯ ОЛИМПИАДА ШКОЛЬНИКОВ ПО
ИСТОРИИ 2024–2025 уч. г.
ШКОЛЬНЫЙ ЭТАП. 11 класс
Время выполнения 120 минут**

ИТОГ ВЫПОЛНЕНИЯ ЗАДАНИЙ

Максимальный балл – 98 балла; фактический – 485 балл.

Подпись членов жюри А. Короб

призер

1. Укажите пропущенную в приведённом ряду фамилию. С.Ю.Витте, И.Л. Горемыкин, В.Н. Коковцов.

- А.Г. Булыгин
- П.А. Столыпин
- Д.Ф. Трепов
- П.П. Шмидт

Ответ: Столыпин

Оценочные баллы: максимальный – 1 балла; фактический – 15

2. Укажите пропущенный в приведённом ряду год. 1918 г.,, 1937 г., 1978 г.

- 1922 г.
- 1924 г.
- 1925 г.
- 1929 г.

Ответ: 1925

Оценочные баллы: максимальный – 1 балла; фактический – 15

3. Какие из перечисленных географических названий связаны с крупными сражениями русско-турецкой войны 1787–1791 гг.?

- мыс Калиакрия
- река Ларга
- река Рымник
- Фокшаны
- Чесменская бухта
- Чигирин

Ответ: река Ларга, Чесменская бухта

Оценочные баллы: максимальный – 3 балла; фактический – 05

4. Какие из приведённых событий произошли в 1917 году?


- принятие Конституции РСФСР
- образование Временного правительства
- II Всероссийский съезд Советов рабочих и солдатских депутатов
- подписание Брестского мирного договора

6. исключение СССР из Лиги Наций

Ответ: 34

Оценочные баллы: максимальный – 6 балла; фактический – 25

7. Выберите пропущенный в ряду портрет.



Ответ: 2

Оценочные баллы: максимальный – 3 балла; фактический – 05

накануне и защищаемый 18-ю батарейными орудиями, подкреплёнными всею 26-ю дивизиею под начальством генерал-лейтенанта Раевского. Избежать сего было невозможно, ибо неприятель усиливался ежеминутно противу сего пункта, важнейшего во всей позиции, и вскоре после того большими силами пошёл на центр наш под прикрытием своей артиллерии густыми колоннами, атаковал курганную батарею, успел овладеть оною и опрокинуть 26-ю дивизию, которая не могла противустоять превосходнейшим силам неприятеля.

4. ...Потомки побеждённых, легки на подъём, но крепки духом, спешили на помощь сынам Альбиона в одной из самых неравных и жестоких битв в истории. Будем надеяться, что кровью, пролитой в тот день, союз двух соседствующих наций был скреплён навечно! Французы сражались дерзко, не уступая нам ни в чём, и враг был разбит. Русские офицеры дрались с отчаяньем обречённых, их солдаты отступали с величайшей неохотой. Но британцы и зуавы работали штыком на редкость эффективно, не зная устали, а наши частенько подбадривали друг друга вопросами о том, что скажут о нас на родине.

Но я в этом уже не участвовал; я сделал всё, что мог, и около полутора часов пролежал на земле в напряжённом ожидании смерти от случайного выстрела. Видит бог, это было нелегко. Уж лучше броситься в атаку! Но приходилось лежать без движения.

Порядка в батальоне не было, да и не могло быть: нижние чины на ночь уходили из казарм, а ближайшие их начальники не смели об этом докладывать из боязни быть убитыми! Ничего хорошего это не предвещало. Семён сначала писал мне довольно часто, но 25 августа его предназначили для отправки в армию, а 28-го его повезли (как он мне писал из Люблина 1 сентября) на Гродно, Варшаву, Ивангород, Белосток и Люблин; он сообщал, что во всё время пути получал только один раз горячую пищу, в Пскове! Затем в письмах наступил почему-то перерыв. 6 октября он мне писал из Люблинской же губернии: он был взводным 10-й роты л.-гв. Гренадерского полка и уже был под огнём; следующее (и последнее) письмо было от 27 октября: он был в сражениях на реке Сане под Новгородом(?), жаловался на ужасы войны, на холод и голод и просил о присылке тёплых вещей. Посылка с тёплыми вещами, парой сапог и едой уже была отправлена ему почтой, 15 октября, но, по-видимому, до него не дошла. Писем от него больше не было, и приходилось считать его погибшим. По моей просьбе полковник л.-гв. Гренадерского полка, флигель-адъютант Поливанов, наводил о нём справку в запасном батальоне полка и сообщил мне, что Семён Панин пропал без вести 11 ноября, когда его батальон был окружён австрийцами.


5. Пока работали над сооружением мостов, мой полк, так же как и все другие части 2-го корпуса, дождался на левом берегу приказа перейти реку; император, ступая большими шагами, переходил от одного полка к другому, разговаривая с солдатами и офицерами. Мюрат сопровождал его. Этот воин, такой храбрый, такой предприимчивый и совершивший так много боевых подвигов, когда победоносные французы шли на Москву, – гордый Мюрат как бы отошёл в тень с тех пор, как ушли из этого города, и в продолжение всего отступления он ни разу не принял участия ни в одном бою. Молча следовал он за императором, точно был посторонним всему тому, что происходило в армии. Тем не менее он, казалось, вышел из своего оцепенения при виде Березины и тех единственных войск, которые, сохраняя порядок, являлись в этот момент последней надеждой на спасение.

6. Армия находится более недели близ села Тарутина на правом берегу Нары и, пребывая в совершенном спокойствии, получает от того новые силы. Полки укомплектовываются прибывающими из разных губерний сформированными генералом от инфантерии князем Лобановым-Ростовским войсками. В лагере производится учение рекрут, горящих рвением сразиться с неприятелем. Лошади нашей кавалерии, получая в довольном количестве фураж и стоя на здоровом водоеме, приметным образом поправляются. Продовольствие устроено таким образом, что армия не терпит ни малейшей нужды и большие к армии ведущие дороги покрыты транспортом, идущими из самых хлебородных губерний, близ коих армия расположена.

Расстроенные силы неприятеля не позволяют делать ему против нас покушений. Удалением от пределов своих лишён он всех пособий; продовольствие его час от часу становится затруднительнее, и пленные уверяют единодушно, что в их армии употребляют в пищу лошадиное мясо, несмотря на то что у них мяса более, нежели хлеба.




5.



6.



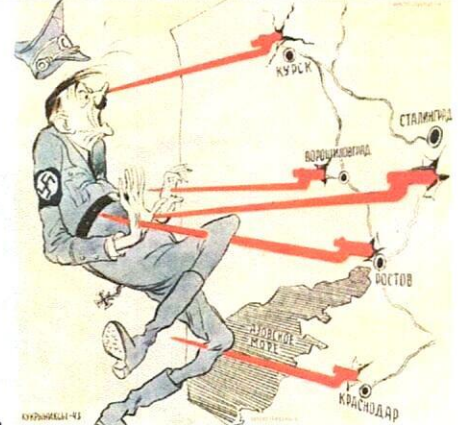
7.



8.



9.



10.

Ответ: 1568

Оценочные баллы: максимальный – 10 балла; фактический – 45

10. Рассмотрите представленные фотографии. Выберите те, которые связаны с событиями, произошедшими после окончания периода коренного перелома в Великой Отечественной войне.

4



5



6





Ответ: 356810

Оценочные баллы: максимальный – 10 балла; фактический – 85

11. Установите соответствие между фрагментами исторических источников и их краткими характеристиками: к каждому фрагменту, обозначенному буквой, подберите по три соответствующие характеристики.

А. Рабочее и Крестьянское Правительство, созданное революцией 24–25 октября и опирающееся на Советы Рабочих, Солдатских и Крестьянских Депутатов, предлагает всем воюющим народам и их правительствам начать немедленно переговоры о справедливом, демократическом мире.

Справедливым или демократическим миром, которого жаждет подавляющее большинство истощённых, измученных и истерзанных войной рабочих и трудящихся классов всех воюющих стран, миром, которого самым определённым и настойчивым образом требовали русские рабочие и крестьяне после свержения царской монархии, – таким миром правительство считает немедленный мир без аннексий (т. е. без захвата чужих земель, без насильственного присоединения чужих народностей) и без контрибуций.

Такой мир предлагает Правительство России заключить всем воюющим народам немедленно, выражая готовность сделать без малейшей оттяжки тотчас же все решительные шаги впредь до окончательного утверждения всех условий такого мира полномочными собраниями народных представителей всех стран и всех наций.

Б. Я достал из поставца шкатулку с цианистым калием и положил её на стол рядом с пирожными. Доктор Лазоверт надел резиновые перчатки, взял из неё несколько кристалликов яда, истёр в порошок. Затем снял верхушки пирожных, посыпал начинку порошком в количестве, способном, по его словам, убить слона. В комнате царило молчанье. Мы взволнованно следили за его действиями. Осталось положить яд в бокалы. Решили класть в последний момент, чтобы отравы не улетучилась. И ещё придать всему вид оконченного ужина, ибо я сказал Распутину, что в подвале обыкновенно пирую с гостями, а порой занимаюсь или читаю в одиночестве в то время, как приятели уходят наверх покурить у меня в кабинете. На столе мы всё смешали в кучу, стулья отодвинули, в чашки налили чай. Условились, что, когда я поеду за «старцем», Дмитрий, Сухотин и Пуришкевич поднимутся в бельэтаж и заведут граммофон, выбрав музыку повеселей. Мне хотелось поддержать в Распутине приятное расположение духа и не дать ему ничего заподозрить.

В. Соображения и заключение присутствия: Рассмотрев настоящее дело, Присутствие находит, что представленный для регистрации устав кружка подмосковных дачников представляет собой не более, не менее, как обычный устав городских клубов, имеющих

4. Источник, фрагмент которого приведён, относится к такому виду источников личного происхождения, как дневники.
5. В тексте источника упоминается учреждение, созданное в результате земской реформы Александра II.
6. В тексте источника упомянут термин, означающий выплаты в пользу проигравшего в войне государства победившего.
7. События, упомянутые в источнике, произошли в 1918 году.
8. По мнению автора, не вызывает сомнений утверждение во всецелой индивидуальной ответственности России за произошедшие события.
9. Согласно тексту источника, поначалу позиции России и Англии расходились по вопросам, связанным с приготовлениями к войне.
10. В тексте упоминаются события, произошедшие за 6 месяцев до появления данного источника.
11. Приведённый источник является составной частью Версальского мирного договора.
12. Источник, фрагмент которого приведён, относится к такому виду источников личного происхождения, как воспоминания.
13. В источнике упоминается событие, активным участником которого был Гаврило Принцип.
14. Окончательное решение по делу было принято исходя из соображений морально-нравственного характера.
15. Источник, фрагмент которого приведён, относится к позднейшим историческим исследованиям – историографии.
16. Автор приведённого исторического источника – Николай Александрович Романов.
17. Участником событий, отражённых во фрагменте источника, был Ф. Юсупов.
18. В источнике отмечается слабая результативность борьбы с нарушениями российского законодательства.
19. Согласно тексту источника, кадровые вопросы в войсках были решены до вступления России в войну.
20. В тексте источника упоминается заговор, целью которого была защита царской семьи от обладавшего, согласно народной молве, тёмными силами «старца».


Ответ:

А	Б	В	Г	Д
7 -	12 +	2 +	7 1 +	4 +

Оценочные баллы: максимальный – 30 балла; фактический – 85

13. Соотнесите приведённые описания оружия с их изображениями.

Обратите внимание на то, что среди изображений есть «лишние».

<p style="text-align: center;">1</p> 	<p style="text-align: center;">2</p> 
<p style="text-align: center;">3</p> 	<p style="text-align: center;">4</p> 
<p style="text-align: center;">5</p> 	<p style="text-align: center;">6</p> 
<p style="text-align: center;">7</p>	<p style="text-align: center;">8</p>