

**ВСЕРОССИЙСКАЯ ОЛИМПИАДА ШКОЛЬНИКОВ ПО ГЕОГРАФИИ
В 2024-2025 УЧЕБНОМ ГОДУ
ШКОЛЬНЫЙ ЭТАП
11 КЛАСС**

Призер

ЗАДАНИЕ 1. Тестовая часть. За каждый правильный ответ по 1 баллу, максимальный балл – 10.

1. Какая из перечисленных стран была колонией Великобритании:

- 1) Суринам 2) Бенин 3) Вьетнам 4) Джибути 5) Тринидад и Тобаго

2. В структуре населения какого из представленных регионов России наибольшая доля лиц пожилого возраста?

- 1) Республика Алтай 2) Чеченская республика 3) Тульская область 4) Ханты-Мансийский АО
5) Новгородская область

3. «Долина чертей» находится:

- 1) В Китае 2) в Крыму 3) В США 4) В Канаде 5) В Японии

4. Укажите реки относящиеся к бассейну Тихого океана:

- 1) Колорадо, Амазонка 2) Колумбия, Амур
3) Миссисипи, Меконг 4) Амазонка, Миссисипи

5. Какая из перечисленных стран входит в состав АСЕАН:

- 1) Сингапур 2) Южная Корея 3) Бутан 4) Камбоджа

6. Какой город возник и быстро рос благодаря внешним миграциям:

- 1) Дублин 2) Веллингтон 3) Джакарта
4) Стамбул 5) Хабаровск 6) Дамаск

7. Найдите единственную страну, в которой минимальны предпосылки для межрелигиозных или межэтнических конфликтов:

- 1) Югославия 2) Индия 3) Япония
4) Канада 5) Турция 6) Великобритания

8. Какая страна не входит в состав «Большой восьмёрки»?

- 1) Канада 2) Италия 3) Испания 4) Великобритания
5) Германия 6) Франция 7) Япония 8) США

9. Наибольшее количество осадков на территории Евразии характерно для:

- 1) побережья Тихого океана 2) наветренных склонов Гималаев
3) внутренних районов Монголии 4) побережья Северного Ледовитого океана
5) наветренных склонов Кавказа


10. Какая страна не входит в состав БРИКС:

- 1) Монголия 2) Бразилия 3) Египет 4) Индия 5) Иран
6) Китай 7) ОАЭ 8) Россия 9) Эфиопия 10) ЮАР

ЗАДАНИЕ 2. Практическая работа. За каждый правильный ответ по 1 баллу. Максимально – 20 баллов.

Найдите соответствие: фотография архитектурных шедевров (название объекта) – определить флаг и название страны, где находится объект.


5.




Д




6.




Е



7.




Ж.

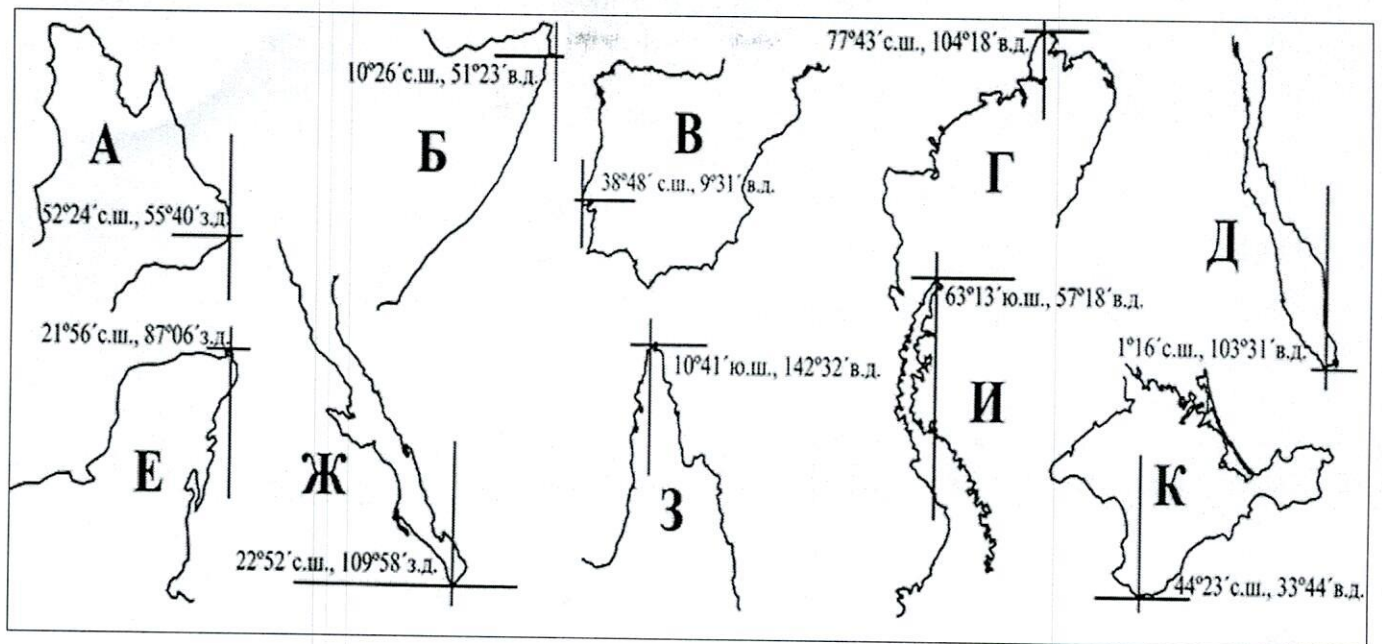


8.



З.





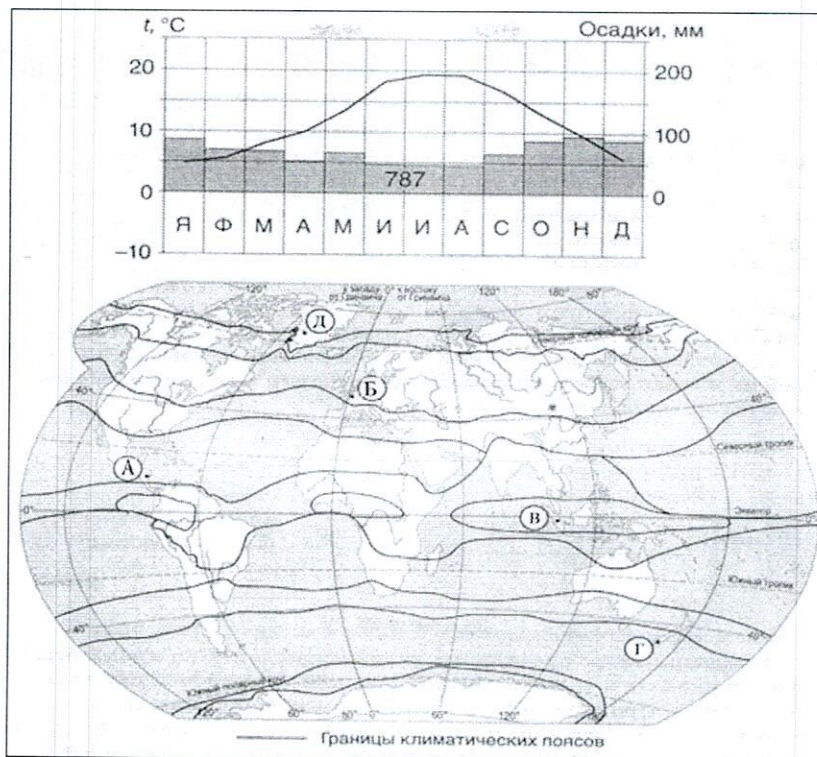
А) До 1961 г. этот полуостров в странах мира назывался по-разному: Земля Грейама (СССР и Великобритания); Земля О'Хиггинса (Чили); Земля Палмера (США) и Земля Сан-Мартина (Аргентина). От соседнего материка полуостров отделяет самый широкий в мире пролив, названный в честь известного мореплавателя, совершившего второе, после Ф.Магеллана, кругосветное плавание и прозванного «железным пиратом». Полуостров, как и весь материк, к которому он относится, по соглашению 1959 году, заключённому 12 странами, признан международной территорией.

Б) Согласно первой версии открытия и названия этого полуострова, он был открыт в 1533 году, когда на юго-восточную его оконечность высадились испанцы под командованием Ортуньо Хименеса, давшего ему современное название. Это имя было заимствовано из романа Г. Ордоньесе де Монтальво «Амадис Галльский», в котором так назывался остров, населённый только женщинами, богатый золотом и драгоценными камнями. По второй версии, он был открыт в 1535 году Эрнаном Кортесом, и назван Санта-Крус, а в 1541 году полуостров был переименован и получил современное название.

В) Этот полуостров назван по своей северной оконечности, т.е. по одноимённому мысу. Он омывается водами двух морей и одного залива, принадлежащих к бассейнам двух океанов. Море у восточных берегов названо по продуктам жизнедеятельности колониальных организмов с известковым скелетом. Море у северо-западных берегов – по условному собирательному названию аборигенов Молуккских островов, обозначающему «жители лесов». Залив у западных берегов был назван в честь генерал-губернатора Нидерландской Индии.

Г) С древнейших времен этот полуостров был перекрестком культур и цивилизаций. Здесь есть всё: бескрайние степи и отвесные скалы, густые леса и бездонные ущелья, быстрые горные реки и восхитительные соленые озера, прекрасные водопады и таинственные пещеры. В разные времена на полуострове жили киммерийцы и скифы, греки и римляне, сарматы и тавры, хазары и готы, татары и армяне, караимы и русские. В 1783 году его территория вошла в состав Российской Империи, хотя в настоящее время она является частью другого государства.

Д) Этот полуостров европейцы открывали дважды: около 1000 г. и в 1500 году Первые назвали его «каменная земля», а вторые – «земля пахарей». Последнее в усечённом виде сохранилось до наших дней. Большая часть полуострова (северная) в тектоническом отношении представлена щитом – выступом кристаллического фундамента докембрийской платформы, а меньшая (южная) относится к области байкальской складчатости. Полуостров богат рудными полезными ископаемыми. Здесь разрабатывается одно из крупнейших в мире месторождений железной руды.



ЗАДАНИЕ 5. За каждый правильный ответ – 1 балл.

Найдите и выпишите ошибку в перечне территорий, входящих в государство, которое по-русски именуется Великобританией:

- А) Уэльс **Б)** Англия В) Бретань Г) Шотландия Д) Северная Ирландия

ЗАДАНИЕ 6. За каждый правильный ответ – 2 балла. Максимально – 14 баллов.

Исправьте географические ошибки.

Остров Юкатан _____; Залив Ютландия _____; Карибское озеро _____;
 Река Гекла _____; Гора Меконг _____; Город Лабрадор _____; Страна Тегеран _____

ЗАДАНИЕ 7. Правильный ответ оценивается в 7 баллов, 4 балла – за правильные названия городов + 3 балла за правильное понятие «трущобная урбанизация».

Из предложенного списка выберите города, для которых характерна так называемая «трущобная» урбанизация: Рио-де-Жанейро, Мехико, Токио, Лос-Анджелес, Богота, Сан-Паулу, Шанхай, Лондон.

Что Вы знаете о понятии «трущобная урбанизация»? Напишите об этом.

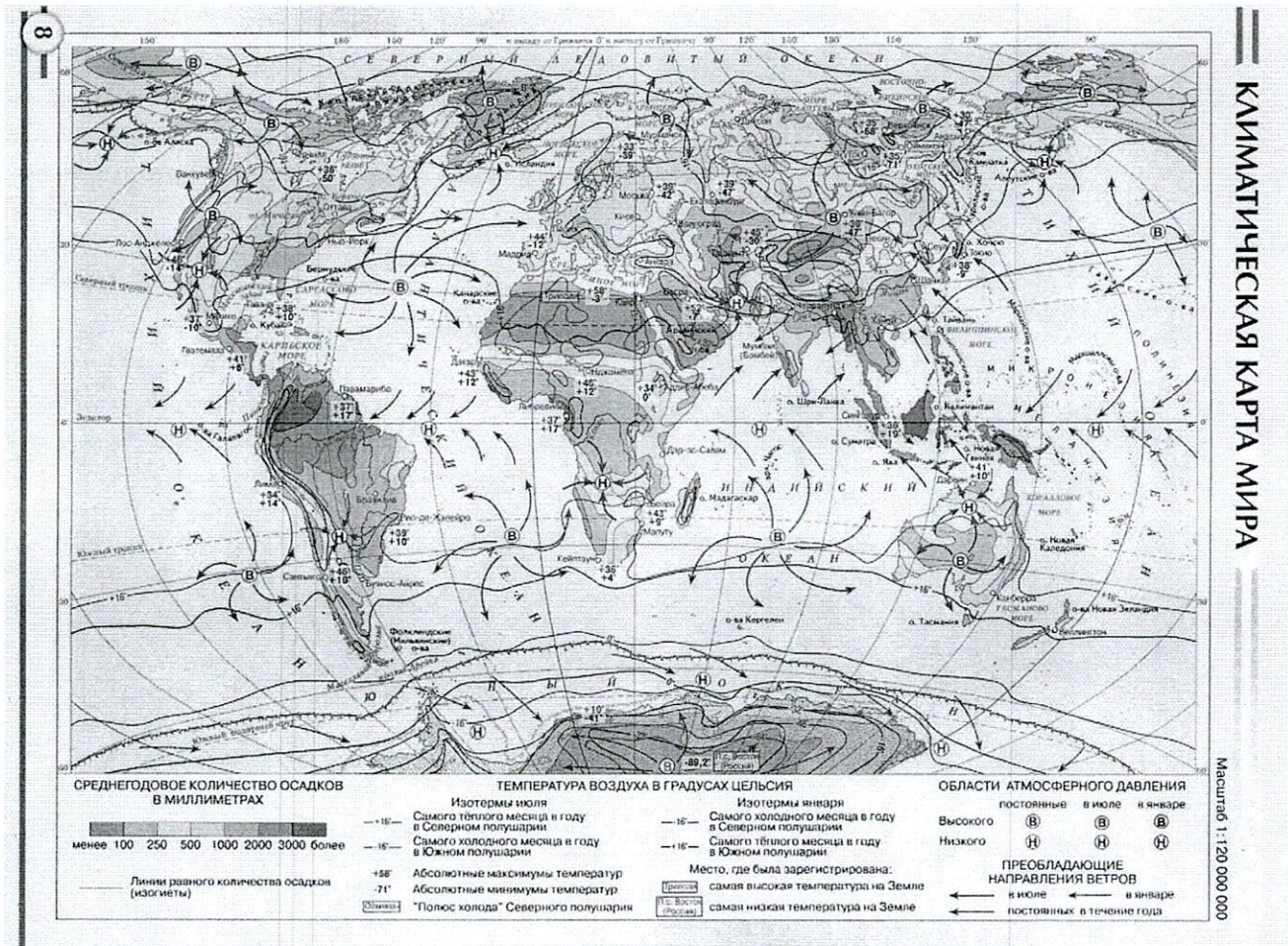
ЗАДАНИЕ 8. Оценивается в 1 балл за правильное название страны + 1 балл за правильное название города. Максимально – 2 балла.

Назовите государство, граничащее с Россией на западе, в котором ведется добыча и переработка сланцев и фосфоритов, развиты радио- и электротехническое машиностроение, в сельском хозяйстве — мясомолочное животноводство, а также рыбная промышленность. Как называется второй по численности населения город этого государства, в прошлом называвшийся Дерптом и Юрьевым?

ЗАДАНИЕ 11. Оценивается в 1 балл.

Наибольшее количество осадков на территории Евразии характерно для:

- а) побережья Тихого океана
- б) наветренных склонов Гималаев
- в) внутренних районов Монголии
- г) побережья Северного Ледовитого океана
- д) наветренных склонов Кавказа



ЗАДАНИЕ 12. Правильный ответ оценивается в 2 балл = по 1 баллу за каждый правильный ответ.

По территории каких из перечисленных стран не проходит Восточно-Африканская зона разломов земной коры?

- а) Эфиопия
- б) Кения
- в) Ботсвана
- г) Зимбабве
- д) Уганда

ЗАДАНИЕ 13. Оценивается в 2 балла – за реку, по 0,5 балла за притоки, города, электростанции и отрасли промышленности). Максимально – 12 баллов.

«Эта река катит свои воды через всю Сибирь; словно измерив всю необъятную ширь, делит глубоким руслом огромную страну на две равные части. Сказочно хороша река своим величавым течением, природой и живописными городами и селами, горделиво возвышающимся на крутых берегах. С левого берега у реки притоков мало и нет среди них значительных. Все крупные притоки подходят к реке справа. Это самая многоводная река России. Она выносит в океан воды больше, чем все реки Европейской части страны». (По А. Муранову)

О какой реке идет речь? Назовите известные вам притоки этой реки. Какие крупные города находятся на её берегах и берегах притоков? Какие сооружения и отрасли промышленности возникли на этой реке?

ЗАДАНИЕ 17. Оценивается в 1 балл.

В какой из четырех групп указано правильное расположение стран (в порядке уменьшения занимаемой ими площади)?

1	2	3	4
Канада	Россия	Китай	США
Россия	Канада	Канада	Россия
США	США	США	Китай
Китай	Китай	Россия	Канада

А) в группе 1 Б) в группе 2 В) в группе 3 Г) в группе 4

ЗАДАНИЕ 18. Оценивается за каждый правильный ответ на вопрос по 1 баллу. Максимально – 9 баллов.

Заполните кроссворд, содержащий географические термины.

1. Наука, изучающая природные воды.
2. Наука, изучающая физико-географические условия, существовавшие на Земле в прошлые геологические эпохи.
3. Наука о взаимоотношениях организмов и окружающей среды.
4. Наука о физических, химических, геологических и биологических процессах в мировом океане.
5. Направление в географии, изучающее природу, население, историю, культуру, экономику, политику и т.д. той или иной страны.
6. Наука, которая изучает многолетний режим погоды в том или ином регионе Земли, определяемый географическими условиями.
7. Раздел в физической географии, изучающий совокупность взаимосвязанных компонентов природы.
8. Наука, которая занимается изучением мёрзлых пород и явлений вечной мерзлоты.
9. Наука о всех формах природного льда на земной поверхности (ледники, снежный покров, ледяной покров водоёмов и др.) и подземных льдах.





ВОПРОС 22. Оценивается в 1 балл.

Лиственный лес в графстве Ноттингемшир неразрывно связан с одной из самых известных фольклорных сказок Англии – легендой о преступнике Робин Гуде, который воровал у богатых и раздавал деньги бедным. Существует множество теорий относительно существования Робин Гуда и его возможного исторического прототипа, но независимо от того, существовал этот герой или нет, этот лес имеет свою собственную историю. Он носил звание королевского охотничьего леса, по которому ступали многие нормандские короли, в том числе Иоанн Безземельный и Эдвард I.

Как называется лес?

Шервудский лес



ВОПРОС 23. Оценивается в 1 балл.

Этот внушительный замок XIV века расположен на вершине скалистой пропасти в Южных Карпатах, и его часто связывают с историей графа Дракулы из произведения ирландского писателя Абрахама «Брэма» Стокера. Хотя сам писатель не был в Трансильвании, овеянной легендами о вампирах и оборотнях, он черпал вдохновение для создания своего галантного вампира из истории принца 15 века Влада Цепеша (Влад III Дракула). Замок Бран возле Брашова стал ассоциироваться с романом викторианской эпохи в основном из-за своего местоположения и изысканной архитектуры, которая соответствует всем выверенным готическим нормам.

В какой стране находится этот замок?

Румыния

ВОПРОС 26. Оценивается в 1 балл.

Это страна получила своё имя благодаря домам аборигенов, поднятым над водой, как в Венеции. Америго Веспуччи назвал это место «Маленькая Венеция» или ...

Назовите страну?

Эквадор



ВОПРОС 27. Оценивается в 1 балл.

Порт расположен на правом берегу Енисея, что даёт доступ к водам Карского моря. Это единственный в мире порт, который затапливается во время половодья. Основные грузы: цветные металлы и нефть.

Как называется порт (название населённого пункта)?

Дудинка



ВОПРОС 28. Оценивается в 1 балл.

Назовите самую малочисленную народность России?

Их численность составляет 4 человека. Проживают они на Чукотке, в селе Майныпильгыно. Их язык не имел письменности, и до наших дней сохранилось всего 5-6 тысяч слов. Они отличаются от своих ближайших соседей. Чукчей более низким ростом (не более 150 см).

Керекы



**ВСЕРОССИЙСКАЯ ОЛИМПИАДА ШКОЛЬНИКОВ
ПО ГЕОГРАФИИ В 2024-2025 УЧЕБНОМ ГОДУ
ШКОЛЬНЫЙ ЭТАП
11 КЛАСС**

7 + 20 + 215 = 48
+ 19

670

присуд.

БЛАНК ОТВЕТОВ

Фамилия _____

Имя _____

ОТВЕТЫ ЗАДАНИЙ ДЛЯ 11 КЛАССА

ЗАДАНИЕ 1. ТЕСТОВАЯ ЧАСТЬ.

За каждый правильный ответ 1 балл. Максимально – 10 баллов.

№ теста	Вариант ответа	Баллы
1	Б	1
2	З	0
3	А	1
4	В	1
5	А	0
6	В	1
7	З	1
8	З	1
9	А	0
10	А	1

ЗАДАНИЕ 2. ПРАКТИЧЕСКАЯ РАБОТА.

За каждый правильный объект, название стран по 1 баллу. Максимально – 20 баллов.

Фотографии объекта	Название архитектурного объекта	Флаг страны (Название страны)
1	собор Святой Софии	Турция
2	Бурдж Халифа	ОАЭ
3	Сиднейский оперный театр	Австралия
4	музей Лувра	Франция
5	Тажик-Махал	Индия
6	Тауэрский мост	Великобритания
7	Пизанская башня	Италия
8	Эйфелева башня	Франция
9	Коллеи	Италия
10	храм Василия Блаженного	Россия

20

ЗАДАНИЕ 3. ПРАКТИЧЕСКАЯ РАБОТА.

Максимально – 20 баллов.

Обозначение на картосхеме	Название полуострова по его описанию	Номер и название под которыми фигурируют крайние точки соответствующего полуострова	Баллы
А			
Б			
В			
Г			
Д			

ИНТЕЛЛЕКТУАЛЬНЫЙ ТУР

Вопрос 19.

Максимальный балл – 1.

Ответ: Германия

1

98

Вопрос 20.

Максимальный балл – 1.

Ответ: Чехия

1

Вопрос 21.

Максимальный балл – 1.

Ответ: Новая Зеландия

1

Вопрос 22.

Максимальный балл – 1.

Ответ: Шервудский лес

1

Вопрос 23.

Максимальный балл – 1.

Ответ: Финляндия

1

Вопрос 24.

Максимальный балл – 1.

Ответ: Великобритания

1

Вопрос 25.

Максимальный балл – 1.

Ответ: Васко да Гама

0

Вопрос 26

Максимальный балл – 1.

Ответ: Эквадор

0

Вопрос 27.

Максимальный балл – 1.

Ответ: Дудинка

1

Вопрос 28.

Максимальный балл – 1.

Ответ: Керечи

1

Вопрос 29.

Максимальный балл – 1.

Ответ: Риппененские озёра

1